

Документ подписан простой электронной подписью
Информация о владельце:
ФИО: Макарова Елена Леонидовна
Должность: Директор
Дата подписания: 27.08.2024 15:21:59
Уникальный программный ключ:
b55e8b63cad9b3788b225b9b11839e27c25c74d4

Негосударственное аккредитованное некоммерческое
частное профессиональное образовательное учреждение
«Северо-Кавказский техникум «Знание»
(НАНЧПОУ СКТ «Знание»)

Принято на заседании
Педагогического Совета
НАНЧПОУ СКТ «Знание»
«08 » июля 2024г
Протокол № 7



УТВЕРЖДАЮ
Директор НАНЧПОУ СКТ «Знание»
Е.Л.Макарова
« 08 » июля 2024г.

**Комплект контрольно-оценочных средств
для проведения промежуточной аттестации
по профессиональному модулю**

**ПМ.03 ОРГАНИЗАЦИЯ ЛОГИСТИЧЕСКИХ ПРОЦЕССОВ В
ТРАНСПОРТИРОВКЕ И СЕРВИСНОМ ОБСЛУЖИВАНИИ**

Наименование специальности

38.02.03 Операционная деятельность в логистике

Квалификации выпускника

Операционный логист

Геленджик 2024

Комплект контрольно-оценочных средств по профессиональному модулю по специальности среднего профессионального образования разработана на основе Федерального государственного образовательного стандарта (далее – ФГОС) по специальности среднего профессионального образования (далее - СПО) 38.02.03 Операционная деятельность в логистике, утвержденного приказом Министерства просвещения РФ от 21.04.2022 г. № 257 «Об утверждении федерального государственного образовательного стандарта среднего профессионального образования»

Организация-разработчик: Дивноморский филиал Негосударственное аккредитованное некоммерческое частное профессиональное образовательное учреждение «Северо-Кавказский техникум «Знание»

Разработчик: преподаватель Фёдорова М.В

Рецензент:

Комплект контрольно-оценочных средств по профессиональному модулю

Обсуждена и рекомендована к утверждению решением ЦМК дисциплин профессионального цикла

Протокол №7 от 08.07.2024

Председатель ЦМК


Земсков В.И.

СОДЕРЖАНИЕ

1. Паспорт фонда оценочных средств	4
2. Комплект контрольно-оценочных средств, для оценки освоения теоретического курса профессионального модуля	7
3. Оценка по учебной и (или) производственной практике	95
4. Комплект контрольно-оценочных средств, для проведения экзамена по модулю	101

1. ПАСПОРТ ФОНДА ОЦЕНОЧНЫХ СРЕДСТВ

1.1. Результаты освоения программы профессионального модуля, подлежащие проверке

Результатом освоения профессионального модуля является готовность обучающегося к выполнению вида профессиональной деятельности ОРГАНИЗАЦИЯ ЛОГИСТИЧЕСКИХ ПРОЦЕССОВ В ТРАНСПОРТИРОВКЕ И СЕРВИСНОМ ОБСЛУЖИВАНИИ и составляющих его профессиональных компетенций, а также общие компетенции, формирующиеся в процессе освоения ППСЗ в целом.

Фонд оценочных средств, предназначен для оценки результатов освоения ПМ.03 ОРГАНИЗАЦИЯ ЛОГИСТИЧЕСКИХ ПРОЦЕССОВ В ТРАНСПОРТИРОВКЕ И СЕРВИСНОМ ОБСЛУЖИВАНИИ

В результате оценки осуществляется проверка сформированности следующих компетенций:

1.1.1. Перечень общих компетенций

Код	Наименование общих компетенций
ОК 01	Выбирать способы решения задач профессиональной деятельности применительно к различным контекстам
ОК 02	Использовать современные средства поиска, анализа и интерпретации информации и информационные технологии для выполнения задач профессиональной деятельности
ОК 03	Планировать и реализовывать собственное профессиональное и личностное развитие, предпринимательскую деятельность в профессиональной сфере, использовать знания по финансовой грамотности в различных жизненных ситуациях
ОК 04	Эффективно взаимодействовать и работать в коллективе и команде
ОК 05	Осуществлять устную и письменную коммуникацию на государственном языке Российской Федерации с учетом особенностей социального и культурного контекста
ОК 06	Проявлять гражданско-патриотическую позицию, демонстрировать осознанное поведение на основе традиционных общечеловеческих ценностей, в том числе с учетом гармонизации межнациональных и межрелигиозных отношений, применять стандарты антикоррупционного поведения

ОК 07	Содействовать сохранению окружающей среды, ресурсосбережению, применять знания об изменении климата, принципы бережливого производства, эффективно действовать в чрезвычайных
ОК 09	Пользоваться профессиональной документацией на государственном и иностранном языках

1.1.2. Перечень профессиональных компетенций

Код	Наименование видов деятельности и профессиональных компетенций
ПК 3.1	Планировать, подготавливать и осуществлять процесс перевозки грузов
ПК.3.2	Определять параметры логистического сервиса
ПК.3.3	Оценивать качество логистического сервиса концепции и принципы сокращения логистических расходов.

1.2. Формы промежуточной аттестации по профессиональному модулю

Обязательной формой аттестации по итогам освоения программы профессионального модуля является экзамен по модулю.

Для составных элементов профессионального модуля предусмотрена следующая промежуточная аттестация.

Элементы модуля, профессиональный модуль	Формы промежуточной аттестации
МДК 03.01.	<i>Коллоквиум</i>
МДК 03.02.	<i>Коллоквиум</i>
УП.03.01 Учебная практика	<i>дифференцированный зачет</i>
ПП.03.01 Производственная практика	<i>дифференцированный зачет</i>
ПМ.03	<i>Экзамен по модулю</i>

1.3. Показатели оценки результатов

Профессиональные компетенции	Показатели оценки результата
------------------------------	------------------------------

<p>ПК 3.1 Планировать, подготавливать и осуществлять процесс перевозки грузов</p> <p>ПК.3.2 Определять параметры логистического сервиса</p> <p>ПК.3.3 Оценивать качество логистического сервиса концепции и принципы сокращения логистических расходов.</p>	<p>Уметь планировать, подготавливать и осуществлять процесс перевозки грузов</p> <p>Определять параметры логистического сервиса</p> <p>Оценивать качество логистического сервиса концепции и принципы сокращения логистических расходов.</p>
---	--

Общие компетенции	Показатели оценки результата
--------------------------	-------------------------------------

<p>ОК 01 Выбирать способы решения задач профессиональной деятельности применительно к различным контекстам</p> <p>ОК 02 Использовать современные средства поиска, анализа и интерпретации информации и информационные технологии для выполнения задач профессиональной деятельности</p> <p>ОК 03 Планировать и реализовывать собственное профессиональное и личностное развитие, предпринимательскую деятельность в профессиональной сфере, использовать знания по финансовой грамотности в различных жизненных ситуациях</p> <p>ОК 04 Эффективно взаимодействовать и работать в коллективе и команде</p> <p>ОК 05 Осуществлять устную и письменную коммуникацию на государственном языке Российской Федерации с учетом особенностей социального и культурного контекста</p> <p>ОК 06 Проявлять гражданскопатриотическую позицию, демонстрировать осознанное поведение на основе традиционных общечеловеческих ценностей, в том числе с учетом гармонизации межнациональных и межрелигиозных отношений, применять стандарты антикоррупционного поведения</p> <p>ОК 07 Содействовать сохранению окружающей среды, ресурсосбережению, применять знания об изменении климата, принципы бережливого производства, эффективно действовать в чрезвычайных</p> <p>ОК 09 Пользоваться профессиональной документацией на государственном и иностранном языках</p>	<p>– Выбирать способы решения задач профессиональной деятельности применительно к различным контекстам</p> <p>– Использовать современные средства поиска, анализа и интерпретации информации и информационные технологии для выполнения задач профессиональной деятельности</p> <p>– Планировать и реализовывать собственное профессиональное и личностное развитие, предпринимательскую деятельность в профессиональной сфере, использовать знания по финансовой грамотности в различных жизненных ситуациях</p> <p>– Эффективно взаимодействовать и работать в коллективе и команде</p> <p>– Осуществлять устную и письменную коммуникацию на государственном языке Российской Федерации с учетом особенностей социального и культурного контекста</p> <p>– Проявлять гражданскопатриотическую позицию, демонстрировать осознанное поведение на основе традиционных общечеловеческих ценностей, в том числе с учетом гармонизации межнациональных и межрелигиозных отношений, применять стандарты антикоррупционного поведения</p> <p>– Содействовать сохранению окружающей среды, ресурсосбережению, применять знания об изменении климата, принципы бережливого производства, эффективно действовать в чрезвычайных</p> <p>– Пользоваться профессиональной документацией на государственном и иностранном языках</p>
--	--

2. КОМПЛЕКТ КОНТРОЛЬНО-ОЦЕНОЧНЫХ СРЕДСТВ ДЛЯ ОЦЕНКИ ОСВОЕНИЯ ТЕОРЕТИЧЕСКОГО КУРСА ПРОФЕССИОНАЛЬНОГО МОДУЛЯ

2.1. Типовые задания для оценки освоения МДК.03.01 Транспортная логистика

Глоссарий

Транспорт – совокупность отраслей хозяйственного комплекса страны, связанных с перевозкой людей и грузов.

Груз – это любое имущество, включая животных, контейнеры, поддоны или аналогичные транспортно-упаковочные приспособления, не предоставляемые экспедитором, а также сырье, материалы и прочие физически осязаемые объекты.

Транспортный процесс – совокупность организационно-технологически взаимосвязанных действий и операций, выполняемых транспортными компаниями, предприятиями и их подразделениями самостоятельно или согласованно с другими организациями при подготовке, осуществлении и завершении перевозки грузов.

Грузопоток – объем грузов, перемещаемых в единицу времени между двумя звеньями логистической системы.

Грузооборот – количество грузов, перемещаемое в единицу времени в рамках определенной логистической системы.

Униmodalная транспортировка – это перевозка груза одним видом транспорта с перезагрузкой в пути следования (из одного автомобиля в другой, из одного поезда в другой, из одного самолета в другой) или без перезагрузки. Их порой так и называют – одновидовые перевозки. Главная отличительная черта униmodalных перевозок заключается в том, что товар,

практически всегда доставляется по принципу «от двери до двери».

Смешанная транспортировка – это перевозка груза с привлечением не менее двух видов транспорта. Осуществление перевозки по единому перевозочному документу, под ответственностью одного лица, являющегося организатором перевозки, считается прямой смешанной перевозкой. При пересечении в процессе грузоперевозки даже одной государственной границы переводит этот процесс в разряд международной перевозки.

Комбинированная транспортировка – это смешанная перевозка, выполняемая без перегрузки груза. В этом случае груз перевозится на всём пути следования в одном и том же контейнере, съемном кузове.

Интермодальная транспортировка - это система доставки грузов несколькими видами транспорта по единому перевозочному документу с их перегрузкой в пунктах перевалки с одного вида транспорта на другой без участия грузовладельца.

Мультимодальная транспортировка – это перевозка, при которой лицо, организующее её, несет ответственность на всём пути следования, независимо от количества принимающих участие видов транспорта при оформлении единого перевозочного документа.

Консолидация грузов — объединение грузов нескольких разных отправителей для последующей их транспортировки одним транспортом.

Тест

1. Транспорт в логистике — это:
 - а) отрасль материального производства, осуществляющая перевозки людей и грузов;
 - б) сфера производства материальных услуг; в) проводник материального потока;
 - г) одна из наиболее затратных функциональных подсистем предприятия;

д) обособленная подсистема, требующая повышенного внимания руководства. 2. Перечислите основные организационные принципы транспортировки.

Это экономия за счет:

- а) использования более дешевого транспорта; б) масштабов грузоперевозки;
- в) удлинения сроков поставки;
- г) допущения дефицита производства; д) дальности маршрута.

3. Какие из указанных функций транспортировки относятся к основным? а) перемещение груза;

- б) снабжение основного производства; в) сокращение сроков доставки;
- г) хранение груза;
- д) соблюдение базовых условий поставки в соответствии с договорами.

4. Грузоперевозки в логистической системе происходят: а) на этапе снабжения производства;

- б) в основном производстве;
- в) на этапе распределения готовой продукции;
- г) на всем протяжении логистической цепи, кроме производства;

5. По видам транспорт в логистике делится:

- а) на железнодорожный; б) водный;
- в) пешеходный;
- г) автомобильный; д) трубопроводный; е) вьючный;
- ж) воздушный.

6. Преимущество железнодорожного транспорта состоит:

- а) в возможности перевозок больших партий грузов в разные районы страны;
- б) оперативности перевозок практически в любую точку страны, возможности экспедирования;
- в) больших объемах перевозок, больших расстояниях;

- г) высокой скорости, незаменимости в экстренных условиях;
- д) перевозке больших партий, широком использовании при международной торговле.

7. Преимущество водного транспорта состоит:

- а) в возможности перевозок больших партий грузов в разные районы страны;
- б) оперативности перевозок практически в любую точку страны, возможности экспедирования;
- в) больших объемах перевозок, больших расстояниях;
- г) высокой скорости, незаменимости в экстренных условиях;
- д) перевозка больших партий, широком использовании при международной торговле.

8. Преимущество трубопроводного транспорта состоит:

- а) в возможности перевозок больших партий грузов в разные районы страны;
- б) оперативности перевозок практически в любую точку страны, возможности экспедирования;
- в) больших объемах перевозок, больших расстояниях;
- г) высокой скорости, незаменимости в экстренных условиях;
- д) перевозке больших партий, широком использовании при международной торговле на всем протяжении логистической цепи.

9. Преимущество воздушного транспорта состоит:

- а) в возможности перевозок больших партий грузов в разные районы страны;
- б) оперативности перевозок практически в любую точку страны, возможности экспедирования;
- в) больших объемах перевозок, больших расстояниях;
- г) высокой скорости, незаменимости в экстренных условиях;
- д) перевозке больших партий, широком использовании при международной торговле.

10. Преимущество автомобильного транспорта состоит:

- а) в возможности перевозок больших партий грузов в разные районы страны;
- б) оперативности перевозок практически в любую точку страны, возможности экспедирования;
- в) больших объемах перевозок, больших расстояниях;
- г) высокой скорости, незаменимости в экстренных условиях;
- д) перевозке больших партий, широком использовании при международной торговле.

11. Коносамент — это:

- а) средство платежа в экспортно-импортных сделках;
- б) документ, выдаваемый перевозчиком грузоотправителю в удостоверение принятия груза к перевозке морским транспортом с обязательством доставить груз в порт назначения и выдать его законному держателю документа.

Является одним из основных документов, применяемых при таможенном оформлении и таможенном контроле товаров, перемещаемых морским транспортом;

- в) документ, который выдается экспортером и содержит описание товаров и условия продажи (аналогичен счету-фактуре во внутренних перевозках);
- г) документ, содержащий краткий перечень рисков, покрываемых страховым полисом (например, ущерб от огня, воды, кражи), наименование страхователя и описание застрахованного имущества экспортера;
- д) кредитный договор между импортером и банком о передаче обязательств по оплате импортером полученных от экспортера товаров банку импортера (который по умолчанию считается более кредитоспособным);
- е) документ, в котором указывают страну, где произведены товары, чтобы определить применяемые к ним таможенные пошлины и другие государственные таможенные ограничения.

12. Сертификат происхождения — это:

- а) средство платежа в экспортно-импортных сделках;
- б) документ, выдаваемый перевозчиком грузоотправителю в удостоверение принятия груза к перевозке морским транспортом с обязательством доставить груз в порт назначения и выдать его законному держателю документа. Является одним из основных документов, применяемых при таможенном оформлении и таможенном контроле товаров, перемещаемых морским транспортом;
- в) документ, который выдается экспортером и содержит описание товаров и условия продажи (аналогичен счету-фактуре во внутренних перевозках);
- г) документ, содержащий краткий перечень рисков, покрываемых страховым полисом (например, ущерб от огня, воды, кражи), наименование страхователя и описание застрахованного имущества экспортера;
- д) кредитный договор между импортером и банком о передаче обязательств по оплате импортером полученных от экспортера товаров банку импортера (который по умолчанию считается более кредитоспособным);
- е) документ, в котором указывают страну, где произведены товары, чтобы определить применяемые к ним таможенные пошлины и другие государственные таможенные ограничения.

13. Банковский чек (переводной вексель) — это:

- а) средство платежа в экспортно-импортных сделках;
- б) документ, выдаваемый перевозчиком грузоотправителю в удостоверение принятия груза к перевозке морским транспортом с обязательством доставить груз в порог назначения и выдать его законному держателю документа. Является одним из основных документов, применяемых при таможенном оформлении и таможенном контроле товаров, перемещаемых морским транспортом;
- в) документ, который выдается экспортером и содержит описание товаров и условия продажи (аналогичен счету-фактуре во внутренних перевозках);

- г) документ, содержащий краткий перечень рисков, покрываемых страховым полисом (например, ущерб от огня, воды, кражи), наименование страхователя и описание застрахованного имущества экспортера;
- д) кредитный договор между импортером и банком о передаче обязательств по оплате импортером полученных от экспортера товаров банку импортера (который по умолчанию считается более кредитоспособным);
- е) документ, в котором указывают страну, где произведены товары чтобы определить применяемые к ним таможенные пошлины и другие государственные таможенные ограничения.

14. Группа базовых условий поставки, когда продавец несет все расходы и риски, необходимые для доставки товара в страну назначения, называемая кратко

«Прибытие», — это:

- а) группа «В» (BPR, BPM, BFG);
- б) группа «С» (CFR, CIF, CPT, CIP);
- в) группа «D» (DAF, DES, DEQ, DDU, DDP);
- г) группа «Е» (EXW);
- д) группа «F» (FCA, FAS, FOB).

15. Группа базовых условий поставки, когда продавец обязан доставить товар перевозчику, назначенному покупателем, называемая кратко «Основная перевозка не оплачена», — это:

- а) группа «В» (BPR, BPM, BFG);
- б) группа «С» (CFR, CIF, CPT, CIP);
- в) группа «D» (DAF, DES, DEQ, DDU, DDP);
- г) группа «Е» (EXW);
- д) группа «F» (FCA, FAS, FOB).

16. Укажите НЕСУЩЕСТВУЮЩУЮ группу базовых условий поставки: а) группа «В» (BPR, BPM, BFG);

- б) группа «С» (CFR, CIF, CPT, CIP);
- в) группа «D» (DAF, DES, DEQ, DDU, DDP);
- г) группа «В» (EXW);
- д) группа «F» (FCA, FAS, FOB).

17. При увеличении расстояния грузоперевозки удельная стоимость перевозки при прочих равных условиях:

- а) резко увеличивается; б) увеличивается;
- в) не изменяется;
- г) уменьшается;
- д) резко уменьшается.

18. Самый дорогой вид транспорта в расчете на т/км — это: а) водный; б) автомобильный; в) воздушный; г) трубопроводный; д) железнодорожный.

19. В функции транспортного отдела входит:

- а) составление графиков выпуска на линию подвижного состава; б) отслеживание и экспедирование доставки; в) исследование и анализ рынка;
- г) установка частоты и объема поставок;
- д) переговоры о величине тарифных ставок;
- е) аудит транспортных операций и претензионно-исковая работа

Задачи для решения

1 В трех городах – А, Б, В, занимающихся добычей угля, имеется 135 тыс. т угля., которые надо доставить в определенных количествах в города потребления- 1, 2, 3, 4, 5 расположенных на определенных расстояниях от них. Основные данные задачи представлены в таблице 7.1. Таблица 7.1 – Основные данные задачи

Города по добыче угля	Пункты потребления и расстояние до них, км					Наличие угля в городах, тыс.т
	1	2	3	4	5	
А	4	2	3	4	4	60
Б	?	3	2	3	2	35
В	3	5	3	3	4	40
Требуемое количество угля по пунктам потребления, тыс. т	24	42	22	15	32	135

Спланируйте перевозки к потребителям так, чтобы затраты на перевозку были минимальными.

2 Автомобиль грузоподъемностью 5 т совершил три ездки: за первую он перевез 5 т на 20 км, за вторую - 4 т на расстояние 25 км, и за третью ездку - 2,5 т на расстояние 10 км. Определить статический коэффициент по каждой ездке; статический и динамичный коэффициенты за смену.

3 Определить количество автомобилей для перевозки 500 т груза, если известно, что для перевозки используется автомобиль грузоподъемностью 5 т, время в наряде 8 час., а время, затраченное на одну ездку, равно 2 час.

4 Автомобиль-самосвал работал на маятником маршруте с пробегом в обоих направлениях: $q = 3,5$ т; $l_{er} = 5$ км; $l_n = 5$ км; $t_{пр} = 12$ мин; $\gamma_{ст} = 1,0$; $v_t = 25$ км/ч; $T_m = 8$ ч. Определить количество автомобилей при объеме перевозок 385 т и коэффициент использования пробега за день.

5 Необходимо перевести 600 т груза, используются автомобили грузоподъемностью 15 т, время работы автомобиля 8 час, а время, которое

затрачивается на одну езду, равно 1 час. Определить количество автомобилей для перевозки груза.

6 Автомобиль работал на маятниковом маршруте с груженным пробегом в обоих направлениях. Грузоподъемность автомобиля 4,2 т; расстояние в двух направлениях (туда и обратно) равно 12 км, время погрузки и разгрузки составляет

10 мин, статистический коэффициент использования грузоподъемности равен 1. Автомобиль двигался со скоростью 40 км/ч, время работы автомобиля 8 час. Необходимо определить количество автомобилей при перевозке 450 т и коэффициент использования пробега за день.

7 Определить среднестатистическую скорость v_t автомобиля и количества ездов n_e , если известно, что время в наряде $T_H=10$ час, время в движении $t_{дв}$ - 2 час, время простоя под погрузкой $t_{пр}$ - 0,5 час, общий пробег $L_{об}$ - 240 км.

8

Практическая работа

ОПРЕДЕЛЕНИЕ МЕСТОРАСПОЛОЖЕНИЯ ПОТРЕБИТЕЛЕЙ

ПРОДУКЦИИ РАСЧЕТ РАССТОЯНИЯ ПЕРЕВОЗОК

Цель работы: научиться определять месторасположение потребителей продукции и производить расчет расстояния перевозок **Задание:**

- 1 Составить таблицу исходных данных.
- 2 Построить транспортную сеть.
- 3 Рассчитать расстояние между потребителями продукции.
- 4 Сделать вывод.
- 5 Ответить на контрольные вопросы.

Порядок выполнения:

- 1 Запишем исходные данные, согласно индивидуального задания: координаты пунктов потребления X, Y.

2. По заданным исходным данным определяем месторасположение потребителей продукции и выносим данные на рисунок

1.1. Строим транспортную сеть, соединяя ребрами пункты потребления между собой.

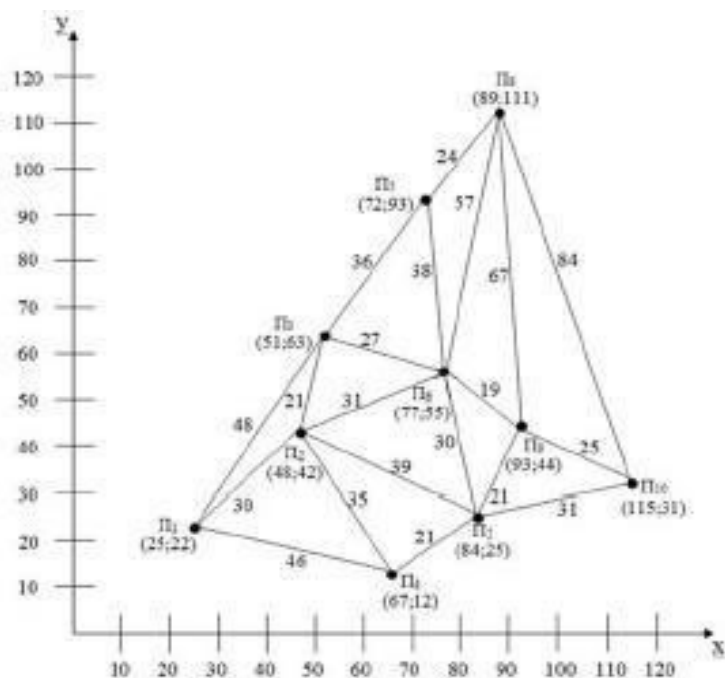


Рисунок 1.1 – Полигон перевозок однородной продукции 3 Для полученной транспортной сети рассчитываем расстояние перевозок по формуле:

$$d = \sqrt{(x_{i+1} - x_i)^2 + (y_{i+1} - y_i)^2}$$

Расчет расстояний сводим в таблицу №1.1

Таблица 1.1– Расстояние между потребителями продукции

Пункты					Расстояние d, км
	X _i	X _{i+1}	Y _i	Y _{i+1}	
П1–П2					
П1–П3					

Наносим на рисунок 1.1 полученные расстояния на соответствующих ребрах, между пунктами потребления продукции.

Содержание отчета:

- 1 Составить таблицу исходных данных. 2 Построить транспортную сеть.
- 3 Рассчитать расстояние между потребителями продукции. 4 Вывод.

Контрольные вопросы

- 1 Кого принято относить к Потребителям продукции? 2 Для чего необходимо строить транспортную сеть?

Самостоятельная работа 1

Определить месторасположение потребителей продукции и производить расчет расстояния перевозок.

Вариант 1

	П1	П2	П3	П4	П5	П6	П7	П8	П9
X	35	28	79	54	35	23	12	17	108
Y	26	31	30	85	64	53	26	39	48

Вариант 2

	П1	П2	П3	П4	П5	П6	П7	П8	П9
X	10	23	25	47	48	56	69	93	77
Y	33	55	89	10	125	205	42	58	109

Вариант 3

	П1	П2	П3	П4	П5	П6	П7	П8	П9
X	20	98	102	104	20	24	47	48	99
Y	34	107	13	55	47	85	26	89	14

Вариант 4

	П1	П2	П3	П4	П5	П6	П7	П8	П9
X	66	32	36	58	74	85	45	24	66
Y	100	85	65	36	47	20	124	147	25

Вариант 5

	П1	П2	П3	П4	П5	П6	П7	П8	П9

X29	68	23	14	57	20	84	87	62
Y103	88	66	77	23	99	12	78	32

Практическая работа

ОПРЕДЕЛЕНИЕ КРАТЧАЙШИХ РАССТОЯНИЙ МЕЖДУ ПОТРЕБИТЕЛЯМИ ТРАНСПОРТНОЙ СЕТИ

Цель работы: научиться определять кратчайшее расстояние

между потребителями транспортной сети **Задание:**

- 1 Определить кратчайшее расстояния между потребителями транспортной сети.
- 2 Сделать вывод.
- 3 Ответить на контрольные вопросы **Порядок выполнения:**

Используя исходные данные на рисунке 1.1 Полигон перевозок однородной продукции из практической работы №1, произведем поиск кратчайших расстояний, между потребителями транспортной сети.

Каждой вершине будем присваивать метку – минимальное известное расстояние от этой вершины до следующей. Алгоритм работает пошагово – на каждом шаге мы "посещаем" одну вершину и пытаемся уменьшить значение метки. Работа алгоритм завершается, когда все вершины посещены.

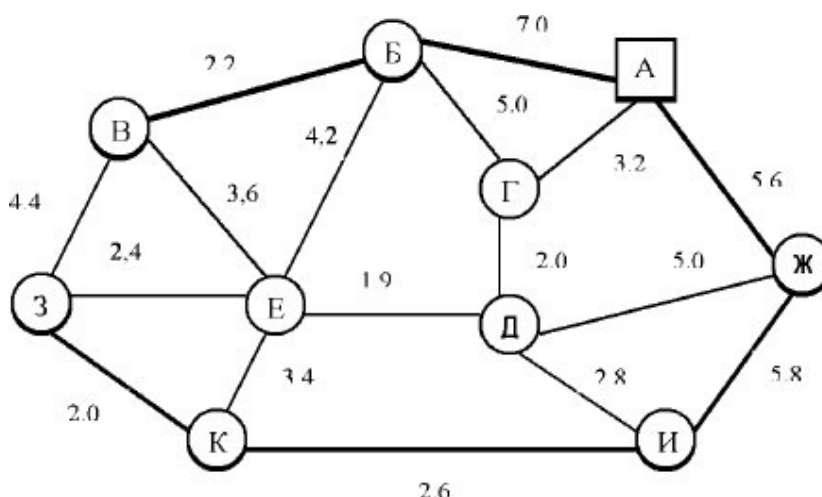


Рисунок 2.1 – Схема размещения пунктов и расстояние между ними

Этап 1. Построение кратчайшей сети, связывающей все пункты без замкнутых контуров, где А – база.

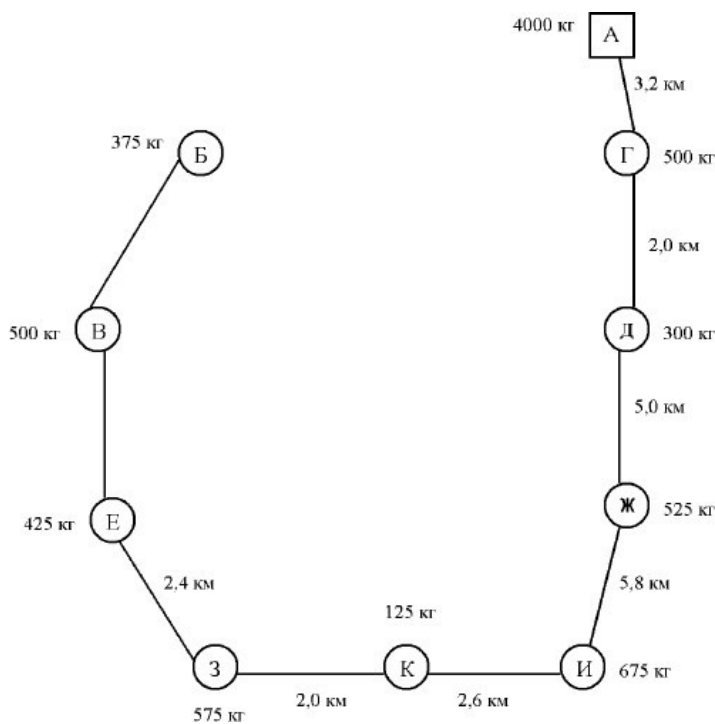


Рисунок 2.2 – Кратчайшая связывающая сеть "Минимальное дерево"

Этап 2. Определение кратчайших путей между отправителями и потребителями.

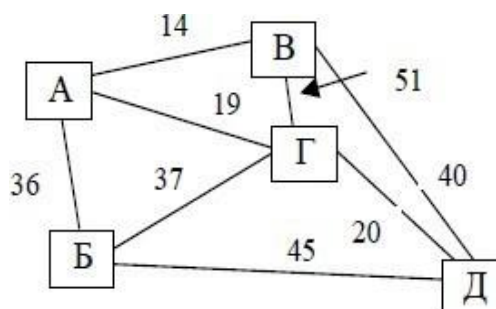


Рисунок 2.3 – Схема транспортной сети

Например, кратчайший путь В и Г проходит через перегоны транспортной сети В–А и А–Г. при этом расстояние составит В–Г

= В–А+А–Г = 14+19=36 км, которое меньше расстояния по прямой связи В–Г=51 км. Аналогично определяют кратчайший путь между другими отправителями и потребителями.

Контрольные вопросы

1 Кого принято относить к Потребителям продукции? 2 Для чего необходимо строить транспортную сеть?

Самостоятельная работа

Определять кратчайшее расстояние между потребителями транспортной сети, построенной из практической работы №1, согласно варианта.

Практическая работа

ЗАДАЧА ВЫБОРА ПОСТАВЩИКА И ЕЕ РЕШЕНИЕ НА ОСНОВЕ АНАЛИЗА ПОЛНОЙ СТОИМОСТИ

Цель работы: ознакомиться с методами решения задачи выбора поставщика

Теоретические основы работы

При осуществлении закупок одной из важнейших задач является выбор поставщика. Он включает поиск источников снабжения и оценку возможности своевременной поставки и предоставления необходимых услуг до и после продажи.

В отделе закупок организации обязательно должна быть информация о действующих договорах с поставщиками, в соответствии с которыми размещаются заказы, товарная классификация закупленных изделий, реестр поставщиков.

При первом способе торговый агент предприятия, отвечающий за закупки, анализирует возможные варианты и предложения. Он выбирает поставщика, исходя прежде всего из наиболее низких закупочных цен, делает заказ, следит за его выполнением и старается разрешить возникающие вопросы.

Второй способ заключается в коллегиальном обсуждении возможностей и потребностей в поставках. Анализ проводится как на уровне отдела закупок предприятия, так и путем взаимодействия этого отдела с производственным отделом, отделом контроля качества либо отделом сбыта.

Критерии оценки и отбора поставщиков материальных ресурсов зависят от требований потребителей логистической системы и могут быть самыми разными. Обычно их три–четыре, но в отдельных случаях их может быть более 60.

Можно выделить главные критерии, на основе которых рекомендуется выбирать поставщика:

1. *Качество продукции.* Подразумевается способность поставщика обеспечить поставку товаров и оказание услуг в соответствии со спецификациями, а также требованиями потребителя.
2. *Надежность поставщика.* В этот критерий включают честность, отзывчивость, обязательность, заинтересованность в ведении бизнеса с данной организацией, финансовую стабильность, репутацию в своей сфере, соблюдение ранее установленных объемов поставки и сроков поставки и т.д.
3. *Цена.* Должны учитываться все затраты на закупку конкретного материального ресурса, т.е. транспортировку, административные расходы, риск изменения курсов валют, таможенные пошлины и т.д.
4. *Качество обслуживания.* Оценка данного критерия требует сбора информации у достаточно широкого круга лиц из разных подразделений компании поставщика и сторонних источников. Необходимо собрать сведения о качестве технической помощи, скорости реакции поставщика на изменяющиеся требования и условия поставок, квалификации обслуживающего персонала и т.д.

5. *Условия платежа и возможность внеплановых поставок.* Можно избежать многих проблем снабжения, если поставщики предлагают выгодные условия платежа (например, с возможностью получения отсрочки, кредита) и гарантируют возможность получения внеплановых поставок.

Как показывает практика, системе установленных критериев может соответствовать несколько поставщиков. В этом случае необходимо их ранжировать, опираясь на влияние непосредственных контактов с представителями поставщиков.

Существуют следующие стандартные этапы решения задачи выбора поставщика.

1. Поиск потенциальных поставщиков:

- объявление конкурса;
- изучение рекламных материалов;
- посещение выставок и ярмарок;
- переписка и личные контакты с возможными поставщиками.

2. Анализ потенциальных поставщиков по критериям:

- цене;
- качеству продукции;
- надежности поставок (соблюдение договоров по срокам поставки, ассортименту, комплектности, качеству и количеству продукции);
- удаленности поставщика от потребителя;
- срокам выполнения текущих и экстренных заказов;
- наличию резервных мощностей;
- организации управления качеством у поставщика;
- психологическому климату у поставщика;

- способности обеспечить поставку запасных частей в течение всего срока службы оборудования;
 - финансовому положению поставщика.
3. Оценка потенциальных или существующих поставщиков на основе:
- критериев выбора поставщика;
 - анализа значимости товара (для которого закупаются материальные ресурсы) для производственного или торгового процесса;
 - значимости (важности) каждого критерия;
 - оценок поставщиков по каждому критерию.

Задание: Фирме необходимо закупить товар. Нужно определить, кому из поставщиков необходимо отдать предпочтение.

Таблица 3.1 – Значимость критериев

Критерий	Значимость критерия	Поставщик					
		А		Б		В	
		оценка	рейтинг	оценка	рейтинг	оценка	рейтинг
Цена	0,35	7	2,45	8	0,28	6	2,10
Сроки выполнения текущих и экстренных заказов	0,25	7	1,75	9	2,25	4	1,00
Надежность по	0,15	8	1,20	5	0,75	9	1,35
Удаленность поставщика от потребителя	0,15	4	0,60	4	0,60	5	0,75
Организация управления качеством у поставщика	0,10	5	0,50	4	0,40	5	0,50
Итого	1,00	—	6,50	—	4,28	—	5,70

Критерий	Поставщик			
	А	Б	В	Г
Надежность снабжения	7	6	5	5
Качество поставляемой продукции	5	6	7	4
Сроки выполнения экстренных заказов	5	7	5	7

Сотрудники службы снабжения экспертным путем устанавливают значимость критериев оценки поставщика. Сумма показателей значимости должна быть равна единице. После этого эксперты оценивают по выбранным критериям каждого поставщика, при этом каждому свойству присваиваются баллы (от 1 до 10). Далее строится таблица и рассчитывается рейтинг поставщика как сумма произведений оценки критерия на его значимость. Максимальное значение суммы произведений будет соответствовать наилучшему поставщику. Соответственно предпочтение следует отдать поставщику А.

Самостоятельная работа 3 Фирме необходимо закупить товар. Нужно определить, кому из поставщиков необходимо отдать предпочтение

Вариант 1

Вариант 2

Критерий	Поставщик			
	А	Б	В	Г
Приемлемая цена	6	5	6	7
Сроки выполнения текущих	6	5	6	5
Своевременность доставки	4	8	5	8
Обслуживание	4	6	9	6
Имидж	6	7	9	4
Условия платежа	4	6	9	6
Оформление товара	8	6	9	6

Вариант 3

Критерий	Поставщик			
	А	Б	В	Г
Соблюдение договоров по срокам постав-	8	7	4	5
Удаленность поставщика от потребителя	4	5	7	3
Организация управления качеством у по- ставщика	5	4	6	8
Условия платежа	6	8	7	4
Производственная мощность	3	7	9	5

Вариант 4

Критерий	Поставщик			
	А	Б	В	Г
Соблюдение договоров по срокам постав-	2	7	4	5
Удаленность поставщика от потребителя	4	3	8	3
Организация управления качеством у по-	5	4	3	8
Условия платежа	10	8	7	1
Производственная мощность	3	7	9	5

Вариант 5

Критерий	Поставщик			
	А	Б	В	Г
Соблюдение договоров по срокам поставки	2	7	4	5
Удаленность поставщика от потребителя	4	3	8	3
Организация управления качеством у по-	5	4	3	8
Условия платежа	10	8	7	1
Производственная мощность	3	7	9	5

Контрольные вопросы

- 1 Какие критерии в процессе оценки и отбора согласно требованиям закупочной логистики являются важнейшими?
- 2 Выделите главные критерии, на основе которых рекомендуется выбирать поставщика?

Практическая работа

ВЫБОР МЕЖДУ «СВОИМ» И «НАЕМНЫМ» ПРОИЗВОДСТВОМ

Цель работы: научиться определять эффективность собственного производства комплектующих изделий. **Теоретические основы работы**

В логистике одной из основных задач, возникающих на разных стадиях движения материального потока, является проблема выбора «сделать или купить». Так, например, в закупочной логистике подобной задачей является проблема выбора собственного или наемного склада, при распределении — выбор собственного или наемного транспорта. Также подобной задачей является выбор между собственным и наемным производством, т.е. решение о том, что выгоднее: производить товар (комплектующее) собственными силами или воспользоваться силами сторонней организации.

При решении этой задачи необходимо учитывать ряд факторов «за» (потребность в комплектующем изделии стабильна и достаточно велика; комплектующее изделие может быть изготовлено на имеющемся оборудовании и др.) и «против» (потребность в комплектующем изделии невелика; для его производства нет необходимых мощностей; отсутствие кадров нужной квалификации и т.д.). В решении должны участвовать разные подразделения предприятия, в том числе отдел снабжения, конструкторский, технологический отделы, бухгалтерия и др.

В качестве критерия оптимальности нередко принимается максимум прибыли, однако практические расчеты обычно осложняются тем, что приходится учитывать большое количество факторов, значения которых в заданном интервале времени могут с высокой степенью вероятности изменяться (падение спроса, разработка новых технологий и др.)> в результате чего решение может оказаться неверным со всеми вытекающими отсюда последствиями. Известные специалисты в области менеджмента высказывали диаметрально противоположные рекомендации: как за максимально вертикальную интеграцию, т.е. производство всех комплектующих изделий собственными силами, так и против нее. Высокая степень вертикальной интеграции снижает зависимость предприятия от колебаний рыночной конъюнктуры, но может привести к росту себестоимости продукции и снижению ее качества. Вместе с тем закупка большей части комплектующих изделий на стороне ставит фирму в чрезмерно сильную зависимость от колебаний конъюнктуры, приводит к потере имиджа.

В более широком смысле данная задача подразумевает определение суммы собственных средств в производстве товаров (комплектующих).

Условие. Определите экономическую целесообразность собственного производства комплектующих и их закупки у поставщика. В табл. 4.1 приведены основные аналитические показатели.

Решение. Рассмотрим вариант собственного производства комплектующих. Предприятию необходимо выпустить 1000 изделий. Следовательно, потребность в комплектующих составит 20000 шт. ($1000 \cdot 20$).

Предприятие потенциально способно произвести 16600 ед. комплектующих ($25000000/1500$).

При необходимом количестве комплектующих 20000 шт. в случае организации собственного производства необходимо закупить у посредника 3 400 шт. комплектующих ($20000 - 16600$). Соответственно расходы по закупке комплектующих у посредника составят 744600 руб. ($3400 \cdot 3 \cdot 73$).

Расходы по изготовлению и приобретению комплектующих при организации собственного производства составят 25 774 600 руб. ($25000000 + 744600$).

Рассмотрим вариант закупки комплектующих у посредника. Расходы по приобретению комплектующих составят 19 600 000 руб. ($20000 \cdot 980$).

Расходы по доставке комплектующих от посредника до предприятия составят 4380000 руб. ($20000 \cdot 3 \cdot 73$).

Расходы по приобретению комплектующих у посредника составят 23980000 руб. ($19600000 + 4380000$).

Таблица 4.1 – Аналитические показатели

Показатель	Единица	Значение
Количество необходимых к выпуску изделий	шт.	1000
Количество комплектующих, необходимых для производства одного изделия	шт.	20
Стоимость производства одного комплектующего (с учетом расходов на организацию собственного производства)	руб.	1500
Сумма собственных средств	руб.	25 000 000
Стоимость одного комплектующего у по-	руб.	980

Расходы на доставку комплектующих от посредника в расчете на 1 км	руб./шт.	3
Расстояние до посредника	км	73

Таким образом, предприятию дешевле закупать комплектующие у посредника, так как расходы по приобретению комплектующих меньше расходов при организации собственного производства на 1794600 руб. (25774600 — 23980000).

Самостоятельная работа 4

Определите экономическую целесообразность собственного производства комплектующих и их закупки у поставщика. Таблица 4.2 – Аналитические показатели

Показатель	1	2	3	4	5
Количество необходимых к выпуску изделий	2000	500	5000	6000	50000
Количество комплектующих, необходимых для производства одного изделия	30	10	5	22	2
Стоимость производства одного комплектующего (с учетом расходов на организацию собственного производства)	100	100	50	200	600
Сумма собственных средств	1800000 0	2500000 0	800000	1000000 0	850000
Стоимость одного комплектующего у посредника	900	400	200	300	300
Расходы на доставку комплектующих от посредника в расчете на 1 км	5	18	10	23	3
Расстояние до посредника	50	40	35	10	5

Контрольные вопросы

- 1 Как определить экономическую целесообразность собственного производства комплектующих и их закупки у поставщика?
- 2 Опишите процесс расчета при собственном производстве.

Практическая работа

ВЫБОР ТИПА АВТОМОБИЛЬНОГО ТРАНСПОРТА ДЛЯ ДОСТАВКИ ТОВАРОВ В РОЗНИЧНУЮ ТОРГОВУЮ СЕТЬ

Цель работы: выбор оптимального типа автомобильного транспорта для распределения товаров по обслуживаемым магазинам

Теоретические основы работы

Транспортная логистика решает множество задач: как выбрать экспедитора/перевозчика, как и где застраховать груз, как правильно заключить договор поставки и на каких условиях, как рассчитать и минимизировать издержки, связанные с доставкой груза, как правильно оформить сопроводительную документацию и отследить движение груза в пути.

Для повышения конкурентоспособности торговой компании необходимо решить следующие вопросы: какое время доставки груза до потребителя следует считать оптимальным с учетом затрат и доходов и как построить схему доставки грузов. При правильном использовании транспортной логистической системы предприятие сможет соблюсти «шесть правил логистики»: нужный груз, в нужном месте, в нужное время, в необходимом количестве, необходимого качества, с минимальными затратами.

К основным задачам транспортной логистики следует отнести обеспечение технической и технологической сопряженности участников транспортного процесса и согласование их экономических интересов.

Техническая сопряженность в транспортном комплексе означает согласованность параметров транспортных средств как внутри отдельных видов, так и в межвидовом

разрезе. Эта согласованность позволяет применять модальные перевозки, работать с контейнерами и грузовыми пакетами.

Технологическая сопряженность предполагает применение единой технологии транспортировки, прямые перегрузки, бесперегрузочное сообщение.

Согласование экономических интересов — это общая методология исследования конъюнктуры рынка и построения тарифной системы.

Одним из основных направлений оптимизации транспортного процесса является решение задачи рационального вида транспорта для доставки товаров в розничную торговую сеть.

Определите наиболее экономичный вид транспортного средства для транспортировки товаров в розничную торговую сеть.

Условие. Предприятию необходимо осуществить доставку с собственного склада (C_0) товаров А и Б в розничную торговую сеть, включающую семь магазинов (M_x — M_7). Расстояние в километрах до магазинов, потребность в товарах в коробках приведены на рисунок 5.1.

Транспортная компания может предоставить для перевозки грузов два типа грузовых машин. Основные параметры транспорта, стоимость рейса и стоимость перевозки груза указаны в табл. 5 (масса одной коробки товара А — 80 кг, товара В — 60 кг).

Таблица 5.1 – Данные для расчета

Вместимость транспорта, т	Стоимость рейса, руб.	Стоимость перевозки груза, руб./км
2,5	2 200	20
15	4 000	30

* Рейсом считается выезд машины со склада и ее возврат на склад. ** Движение порожней машины при расчетах не учитывается.

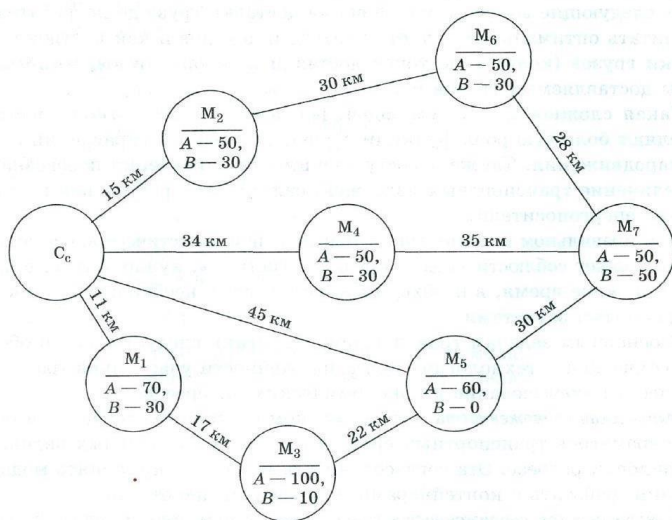


Рисунок 5.1 – Транспортная сеть

Решение. Вначале необходимо выбрать тип автотранспортного средства для доставки товаров в розничную торговую сеть. Для этого рассчитывают объем поставки, который необходимо выполнить предприятию.

1. Определяют объем поставки для каждого магазина. Объем поставки для M_1 составит:

по товару A : $80 \cdot 70 = 5\,600$ кг; по товару B : $60 \cdot 30 = 1\,800$ кг.

Общий объем поставки будет равен $5\,600 + 1\,800 = 7\,400$ кг. Аналогичным образом рассчитывают объем поставки для каждого магазина: M_2 — 5 800 кг; M_3 — 8 600 кг; M_4 — 5 800 кг; M_5 —

4 800 кг; M_6 — 5 800 кг; M_7 — 7 000 кг.

2. Определяют тип автотранспортного средства из предлагаемых вариантов. Предложены два типа транспортного средства вместимостью 2,5 и 15 т. Первым типом транспортного средства в данном случае воспользоваться нерентабельно, так как объем поставок в любой из магазинов превышает вместимость указанного транспортного средства. Если рассмотреть возможность поставки мелкими партиями, то этот вариант также не будет рентабельным по причине сравнительно небольшой разницы между стоимостью рейса двух типов автомобилей. (В типовых задачах по данной теме не всегда один из типов транспортного средства заведомо

неэффективен. Поэтому возможен вариант расчета для всех типов транспортных средств, указанных в условии.)

В дальнейшем все расчеты будут приведены применительно к автомобилю грузопместимостью 15 т.

3. Определяют маршруты доставки товаров в розничную торговую сеть (не учитывается возвращение порожней машины на склад):

маршрут 1 ($C_c - M_1 - M_5$): $7400 + 4\,800 = 12\,200$ кг; маршрут

2 ($C_c - M_2 - M_3$): $5\,800 + 8\,600 = 14\,400$ кг; маршрут 3 ($C_c -$

$M_6 - M_7$): $5\,800 + 7\,000 = 12\,800$ кг; маршрут 4 ($C_c - M_4$): 5

800 кг.

Основным критерием, рекомендуемым для определения рационального маршрута автомобиля, считают коэффициент использования грузового объема транспортного средства, который позволяет выполнять минимальное количество рейсов и соответственно уменьшать расходы на транспортировку. Коэффициент использования грузового объема транспортного средства рассчитывается путем деления объема груза, размещенного в кузове транспортного средства, на объем кузова транспортного средства. Оптимальное значение этого коэффициента должно быть приближено к единице.

4. Рассчитывают расходы по доставке товаров в розничную торговую сеть по предлагаемым маршрутам.

Стоимость всех рейсов составит $4\,000 \cdot 4 = 16\,000$ руб. Стоимость транспортировки по маршрутам:

- маршрут 1: $30(11 + 17 + 22) = 1\,500$ руб. (выбирается минимальное расстояние до пунктов);
- маршрут 2: $30(15 + 15 + 11 + 17) = 1\,290$ руб.; маршрут 3: $30(15 + 30 + 28) = 2\,190$ руб.; маршрут 4: $30 \cdot 34 = 1\,020$ руб.
- маршрут 3: $30(15+30+28) = 2\,190$ руб.

- маршрут 4: $30 \cdot 34 = 1\,020$ руб.

5. Определяют общие расходы по доставке товаров в розничную торговую сеть по предлагаемым маршрутам. Они составят $16\,000 + 1\,500 + 1\,740 + 2\,190 + 1\,020 = 22\,450$ руб.

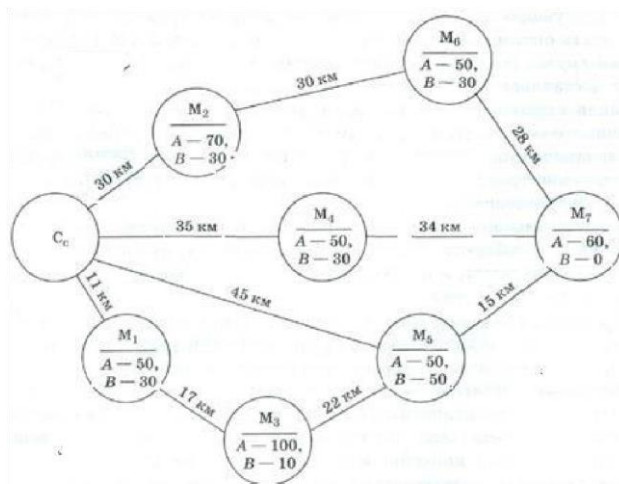
В– случае расчета для нескольких типов транспортных средств суммарные расходы сравниваются и выбирается наименее затратный вариант. **Самостоятельная работа** Предприятию необходимо осуществить доставку с собственного склада (C_c) товаров А и В в розничную торговую сеть, включающую пять магазинов ($M_1 \sim M_5$) (см. рисунки ниже).

Транспортная компания может предоставить для перевозки грузов два типа грузовых машин. Основные параметры транспорта, стоимость рейса и стоимость перевозки груза указаны в табл.5.2.

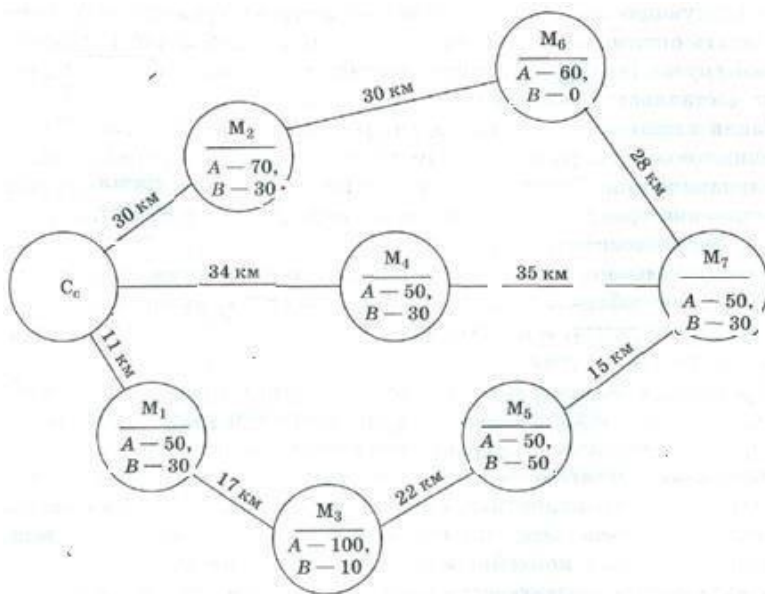
Таблица 5.2

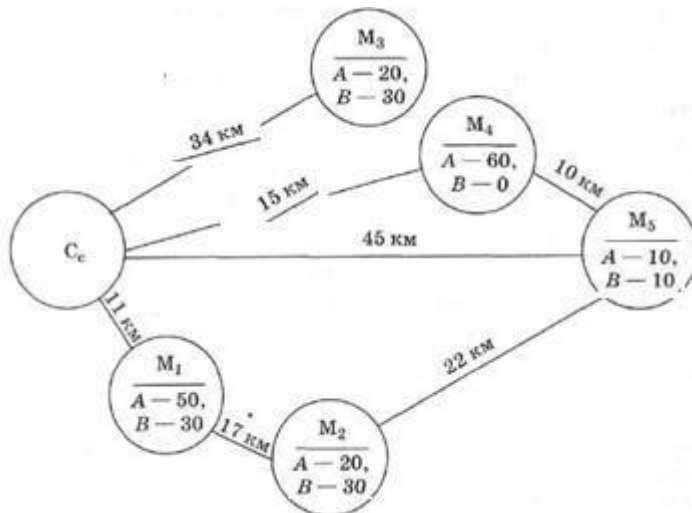
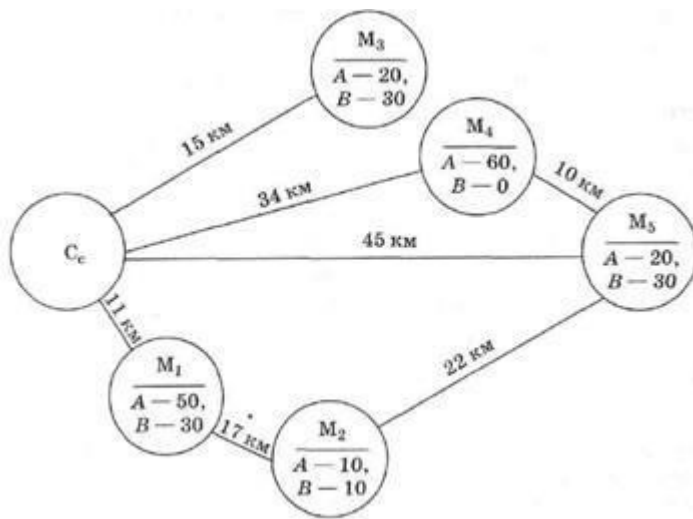
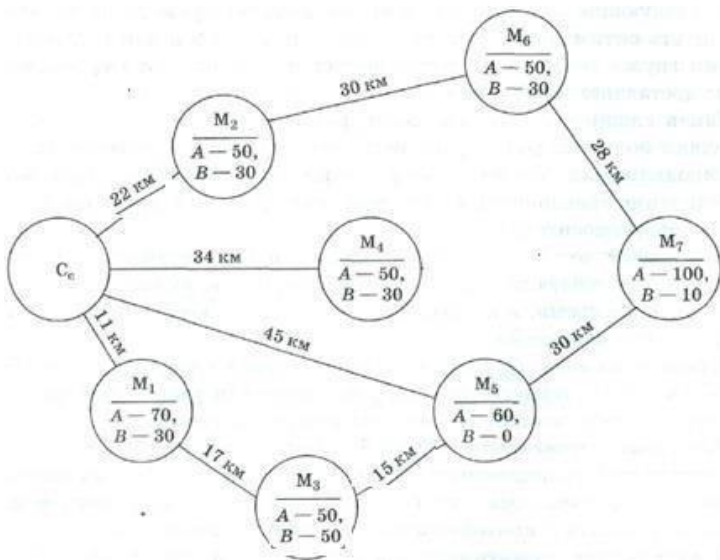
Вместимость транспорта, т	Стоимость рейса, руб.	Стоимость перевозки груза, руб./км
10	3200	15
15	4000	20

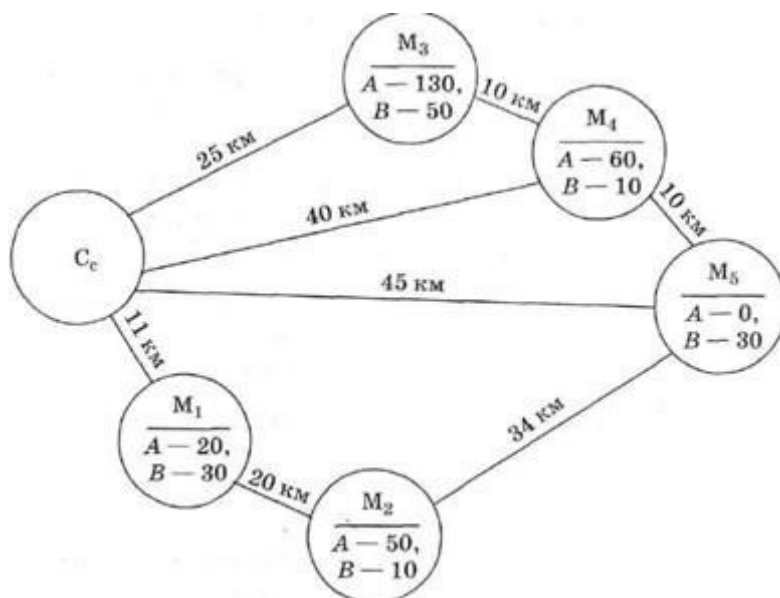
Определите наиболее экономичный вид транспортного средства для транспортировки товаров в розничную торговую сеть. Масса одной коробки товара А— X кг, товара В— Y кг.



№	1	2	3	4	5	6	7	8	9	10
X	40	35	25	40	80	56	25	40	32	36
Y	50	15	75	30	97	50	78	21	39	39
№	11	12	13	14	15	16	17	18	19	20
X	80	50	60	89	75	63	70	33	32	74
Y	60	40	42	31	85	45	60	50	40	69







Контрольные вопросы

- 1 Роль и место транспортной логистики; 2 Основные задачи транспортной логистики; 3 Перечислите 6 правил логистики;
- 4 Какова роль транспортной логистики при выполнении этих правил.

Практическая работа

РАСЧЕТ ОСНОВНЫХ ПОКАЗАТЕЛЕЙ РАБОТЫ ТРАНСПОРТА

Цель работы: Ознакомление с существующими показателями и приобретение практических навыков их расчета

Исходные данные:

а) Схема транспортной сети промышленного района (рисунок 6.1)

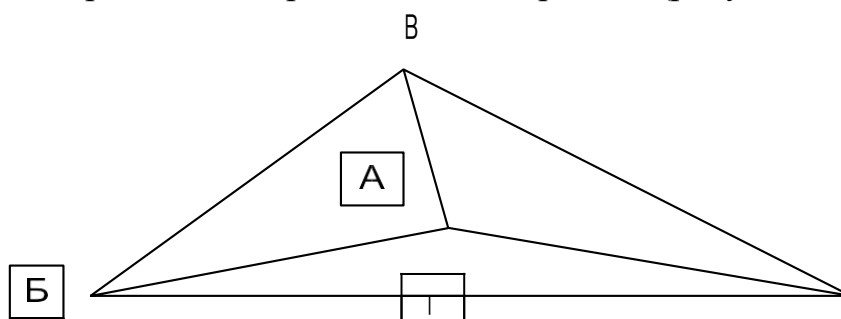


Рисунок 6.1 – Схема транспортной сети промышленного района

б) Расстояния между пунктами транспортной сети (приведены в таблице 6)
Таблица 6.1 – Расстояния между пунктами транспортной сети в километрах

Пункт отправления	Пункт назначения			
	А	Б	В	Г
А	–	100	70	50
Б	–	–	160	120
В	–	–	–	115
Г	–	–	–	–

Примечание: Данные таблицы 6 приведены для студентов, имеющих первый вариант. Остальные студенты при выполнении лабораторной работы прибавляют к табличным данным цифру номера своего варианта.

в) Объемы перевозок между пунктами промышленного района (таблица 6.2)

Таблица 6.2 – Объемы перевозок между пунктами промышленного района в тоннах за декаду

Пункт отправления	Пункт назначения			
	А	Б	В	Г
А	–	100	400	600
Б	50	–	500	700
В	200	600	–	50
Г	200	400	300	–

Примечание: Данные таблицы 6.2 приведены для студентов, имеющих первый вариант. Остальные студенты при выполнении лабораторной работы прибавляют к табличным данным цифру номера своего варианта.

Требуется:

Определить основные показатели работы транспорта, а именно: общий объем перевозок грузов в тоннах; грузооборот в тонно– километрах; среднюю дальность перевозки одной тонны груза;

Теоретические основы работы

Для планирования и учета работы транспорта в целом и его отдельных организаций используется система показателей. Эта система включает количественные и

качественные критерии. Количественные показатели используются для измерения объема перевозочной работы. В этих целях рассчитываются:

- объем перевозок грузов в тоннах, т;
- грузооборот в тонно–километрах, ткм;
- объем перевозок пассажиров, пасс.;
- пассажирооборот в пассажиро–километрах, пасс–км; – приведенный грузооборот, ткм.

Система качественных показателей включает следующие основные измерители:

- среднюю дальность перевозки одной тонны груза или одного пассажира, км;
- производительность транспортных средств, т/сут, ткм/сут, пас/сут, пасс–км/сут или за иной временной отрезок (час, смену и т.д.);
- производительность труда, т.е. выработку на одного работающего (т, ткм, пасс., пасс–км) на транспорте за единицу времени (час, смену, сутки, месяц, квартал, год);
- себестоимость выполнения единицы транспортной работы, руб./т, руб./пасс, руб./ткм, руб./пасс–км.

Объем перевозок грузов показывает количество тонн груза, которое планируется перевезти или уже перевезено. Он определяется путем суммирования всех перевезенных тонн груза со всех пунктов сети, т.е. $P = P_1 + P_2 + \dots + P_n$, где

Где P_1, P_2, P_n

- количество груза, перевезенного соответственно с 1–го, 2–го, ..., n–го пункта сети за определенный период времени.

Грузооборот показывает транспортную работу, планируемую или затраченную на выполнение перевозок. Этот показатель являет-

ся обобщенным и учитывает не только массу перевезенного груза, но и расстояние его перевозки. Он определяется по формуле

$$P = P_1 l_1 + P_2 l_2 + \dots + P_n l_n, \text{ где}$$

Где P – грузы.

l_1, l_2, \dots, l_n

– расстояния перевозки соответствующих партий

Объем перевозки пассажиров обычно определяется за год по формуле

$$A = a_1 + a_2 + \dots + a_n, \text{ где}$$

Где

a_1, a_2, \dots, a_n

– число отправленных (перевезенных) пассажиров соответственно с 1-го, 2-го, ..., n-го пункта.

Пассажиरोоборот – это транспортная работа, затрачиваемая на перевозку пассажиров, и определяется как сумма произведений количества пассажиров на соответствующее расстояние их перевозки по формуле

$$A_l = a_1 l_1 + a_2 l_2 + \dots + a_n l_n, \text{ где}$$

где

l_1, l_2, \dots, l_n

– соответствующая дальность перевозки каждой группы пассажиров.

Приведенный грузооборот рассчитывается по формуле

$$P_{\text{пр}} = P + k A_l, \text{ где}$$

где k – коэффициент приведения пассажиро-километров к тонно-километрам. Средняя дальность перевозки одной тонны груза или одного пассажира определяются по следующим формулам соответственно

$l_{\text{д}} = P_l, \text{ê} P$

$L_{\text{а}} = A_l, \text{ê} A$

Производительность транспортных средств определяется отношением количества перевезенных тонн груза или выполненных тонно–километров транспортным комплексом в целом или отдельными видами транспорта или отдельными транспортными организациями за отчетный период времени к количеству транспортных средств, занятых на выполнении данной работы.

Производительность труда (т, ткм, пасс., пасс–км) определяется отношением объема выполненной работы за отчетный период времени к среднесписочной численности работников транспортной отрасли, отдельного вида транспорта или транспортной организации.

Себестоимость выполнения единицы транспортной работы – это отношение суммарных эксплуатационных расходов к общему объему выполненной работы.

Контрольные вопросы:

1. Назовите, на какие группы делятся показатели работы транспорта?
2. Какие показатели работы транспорта относятся к количественным показателям?
3. Какие показатели работы транспорта относятся к качественным показателям?
4. Что такое грузооборот, и каким образом он рассчитывается?
5. Поясните смысл приведенного грузооборота?
6. Как определяется средняя дальность перевозки одной тонны груза и средняя дальность поездки одного пассажира?
7. Поясните смысл терминов «производительность транспортных средств» и «производительность труда». Чем они отличаются друг от друга?

8. Что такое себестоимость транспортной работы?

Практическая работа

ВЫБОР ВИДОВ ТРАНСПОРТА ДЛЯ ПЕРЕВОЗОК ГРУЗОВ В ПРЯМОМ И СМЕШАННОМ СООБЩЕНИЯХ

Цель работы: Ознакомление с критериями, используемыми для технико-экономического обоснования выбора вида транспорта.

Исходные данные:

а) Значения затрат в зависимости от схемы перевозок грузов (приведены в таблице 7.1).

Условные обозначения в таблице 7.1 имеют следующие значения:

- $C_{пер}$ – затраты на погрузочно-разгрузочные в перегрузочные работы за время транспортировки груза;
- C_m – затраты на перемещение груза на магистральных видах транспорта, включая выполнение начально-конечных операций и содержание путей сообщения;
- $C_{пот}$ – затраты, связанные с частичной потерей или частичной утратой качества груза за время транспортировки;
- K_T – капитальные вложения для развития постоянных устройств и приобретения подвижного состава для выполнения заданных перевозок;
- $K_{гр}$ – общая стоимость грузов постоянно находящихся в процессе транспортирования (оборотные средства народного хозяйства);
- N – последние две цифры номера зачетной книжки.

Таблица 7.1 – Значения затрат в зависимости от схемы перевозок грузов

№ схемы	Затраты, долларов
---------	-------------------

перевозок	Спер	С _м	Спот	К _т	К _{гр}
1	60000	2700100	136500	250000xN	146900
2	40000	495000	136000	200000xN	504110
3	75000	1500200	186000	300000xN	550900
4	105000	1000500	245500	150000xN	804500
5	110000	1050000	238800	350000xN	700100
6	120000	620000	288800	100000xN	1100200
7	75000	1600300	186500	125000xN	550900
8	100000–	2200000	243800	175000xN	750720
9	125000	1000500	293300	225000xN	1000200

Требуется:

- а) Рассчитать приведенные расходы по всем схемам перевозки грузов;
- б) Определить по величине приведенных расходов наиболее целесообразную схему перевозок грузов.

Теоретические основы выполнения работы

Вопросы координации и взаимодействия различных видов транспорта являются вопросами первостепенной важности. От правильного решения этих вопросов во многом зависят технико– экономические показатели работы транспорта.

Выбор конкретного вида транспорта или схемы перевозок в смешанном (мультимодальном) сообщении производится на основе их сравнения по одному или нескольким критериям. Последние могут быть как частными, так и обобщающими. Частные критерии: тонно–километровая работа (грузооборот), сроки доставки или скорость перевозки, расход топлива и энергии.

Основным обобщающим критерием считаются приведенные расходы, представляющие сумму годовых эксплуатационных расходов и установленной доли капитальных вложений, необходимых для освоения заданных перевозок.

Приведенные расходы определяются по формуле

$$C_{пр} = E + E_n (K_t + K_{гр})$$

где E – годовые эксплуатационные расходы, необходимые для выполнения расчетных перевозок грузов;

E_n – нормативный коэффициент эффективности капитальных вложений, принимаемый обычно 0,15.

Эксплуатационные расходы складываются из текущих затрат на топливо, энергию, материалы, оборудование, ремонт, амортизацию, заработную плату.

Капитальные вложения – это единовременные затраты на строительные–монтажные работы по развитию пропускной способности магистралей и узлов, на покупку нового подвижного состава, инвентаря для непосредственного осуществления заданных перевозок.

Наиболее целесообразной является схема транспортировки груза в прямом (одним видом транспорта) или смешанном сообщении, при которой достигается минимальное значение затрат $C_{пр}$.

Расчеты могут проводиться не только для каждого данного вида транспорта. В большинстве случаев в некоторых вариантах рассматривается некая комбинация видов транспорта.

Для практических расчетов величины приведенных расходов при сравнении различных вариантов перевозки грузов определяют по следующей формуле: $C_{пр} = C_{пв} + C_{пер} + C_m + C_{пот} + E_n (K_T + K_{гр})$

где $C_{пв}$ – затраты на подвоз грузов к магистральному транспорту и вывоз груза с магистрального транспорта.

Факторами, определяющими размер суммарных приведенных затрат и тем самым влияющими на выбор экономически обоснованной схемы перевозок, являются следующие:

- географическое положение района осуществления перевозок с его природно–климатическими условиями;

- мощность и структура грузопотока, его характеристика во времени
(регулярность, длительность);
- расстояние перевозок, т.е. местонахождение грузоотправителя и грузополучателя;
- цена груза;
- партионность отправок;
- режим работы грузоотправителя и грузополучателя;
- номенклатура и характеристика подвижного состава различных видов, транспорта;
- характеристика действующей дорожной сети;
- необходимость капитальных вложений в дорожную сеть, подвижной состав и вспомогательные сооружения;
- номенклатура и характеристика погрузочно–разгрузочных механизмов;
- возможность использования транспорта в обратном направлении;
- возможные способы выполнения погрузочно–разгрузочных и перегрузочных операций.

В случае равноценности вариантов по величине суммарных приведенных затрат для решения вопроса выбора схемы перевозок привлекаются дополнительные показатели, такие как:

- производительность труда;
- расход топливно–энергетических ресурсов;
- расход металлов и других дефицитных материалов;
- обеспечение охраны окружающей среды;
- обеспечение безопасности движения;

— отношение к обороноспособности страны.

Контрольные вопросы:

1. Поясните сущность смешенных (мультимодальных) перевозок грузов?
2. Назовите особенности интермодальных перевозок грузов?
3. Назовите частные и обобщающие критерии. В каких случаях они применяются?
4. Какие затраты учитываются при сравнении схем перевозки грузов?
5. Что представляет собой нормативный коэффициент эффективности E_n ?

Практическая работа

РАСЧЕТЫ СТРАХОВЫХ ТАРИФОВ

Цель работы: Ознакомление с системой актуарных расчетов и методикой определения страховых тарифов.

Исходные данные:

а) Показатели страховой деятельности (приведены в таблице 8.1).

Таблица 8.1 – Значения показателей страховой деятельности

№ п.п.	Наименование показателей	Условное обозначение	Значения показателей
1	Общее число договоров, заключенных за некоторый период времени в прошлом	N	3 500 000
2	Число страховых случаев	M	50 000
3	Страховая сумма при заключении N договоров страхования, EUR	$N \cdot S_i i 1$	350 000 000
4	Сумма страховых возмещений за M страховых случаев, тыс. EUR	$M \cdot S_{\text{ак}} k$	300 000
5	Доля нагрузки в брутто-тарифе, %	f	50,0

б) Варианты изменения показателей страховой деятельности

Значение последней цифры номера зачетной книжки	Коэффициент для изменения исходных данных по строке				
	1	2	3	4	5
0	1,2	2,1	1,4	0,9	1,00
1	1,1	1,4	1,3	1,9	0,95
2	1,0	1,3	0,9	1,8	0,85
3	1,5	0,9	1,9	1,6	0,80
4	1,6	1,9	1,8	1,4	0,55
5	1,4	1,5	1,2	1,3	0,60
6	1,3	1,6	1,1	1,1	0,70
7	0,9	1,2	1,0	1,0	0,75
8	1,9	1,1	1,5	1,5	0,90
9	1,8	2,0	1,6	2,2	0,65

Требуется:

- а) Выполнить расчет вероятности наступления страхового случая (q), средней страховой суммы (S_c) и средней суммы страхового возмещения (S_{bc});
- б) Определить основную часть нетто–тарифа; в) Рассчитать рисковую надбавку;
- г) Определить значение нетто–ставки (нетто–тарифа); д) Выполнить корректировку нетто–ставки;
- ж) Рассчитать значение брутто–тарифа;

Теоретические основы работы

Основные задачи актуарных расчетов: исследование и группировка рисков в рамках страховой совокупности; определение вероятности наступления страхового случая, частоты и степени тяжести последствий причинения ущерба как в отдельных рискованных группах, так и в целом по страховой совокупности; обоснование необходимых расходов на ведение дела страховщиком; обоснование необходимых резервных фондов страховщика. Таким образом, с помощью актуарных расчетов определяются страховые тарифы.

Страховой тариф – цена страхового риска, адекватное денежное выражение обязательств страховщика по заключенному договору страхования выражается в абсолютных денежных единицах или процентах от страховой суммы. Размер страхового тарифа по обязательным видам страхования определяется законодательством, а по добровольным видам страхования страховщиком.

Страховой тариф, по которому заключается договор страхования, носит название *брутто–ставка*. В свою очередь, брутто–ставка состоит из двух частей: *нетто–ставка* и *нагрузки*. Собственно *нетто–ставка* выражает *цену* страхового риска: пожара, наводнения, взрыва и т. д. *Нагрузка* покрывает расходы страховщика по организации и проведению страхового дела, включает отчисления в запасные фонды, содержит элементы прибыли. В основе построения *нетто–ставка* по любому виду страхования лежит *вероятность наступления страхового случая*.

Вероятность наступления страхового случая (q), средняя страховая сумма (S_c), средняя сумма страхового возмещения ($S_{вс}$) рассчитываются по следующим формулам:

$$q = \frac{M}{N}; \quad S_c = \sum_{i=1}^n S_i; \quad S_{вс} = \sum_{k=1}^m S_{вск},$$

где N – общее число договоров, заключенных за некоторый период времени в прошлом;

M – число страховых случаев;

S_i – страховая сумма при заключении i -го договора страхования; S_{ek} – сумма страхового возмещения при k -м страховом случае.

При страховании по новым видам рисков или при отсутствии фактических данных о результатах проведения страховых операций, т.е. статистических данных по величинам q , S_c , S_{ek} , эти величины могут оцениваться экспертным путем либо в качестве их могут использоваться значения показателей-аналогов. В этом случае должны быть представлены в письменном виде мнения экспертов либо экономико-математическое обоснование целесообразности выбора показателей аналогов данных величин, а отношение средней суммы страхового возмещения к средней страховой сумме (S_{BC}/S_C) по одному договору страхования следует принимать не ниже установленных значений: от несчастных случаев и болезней в медицинском страховании – 0,3; средств наземного и водного транспорта – 0,4; средств воздушного транспорта – 0,6; ответственности владельцев автомобильных средств и других видов ответственности и страхования финансовых рисков – 0,7; остальные виды страхования – 0,5.

Нетто-тариф состоит из двух частей – основной части (T_o) и рискованной надбавки (T_p):

$$T_n = T_o + T_p$$

Основная часть нетто-тарифа (T_o) соответствует средней убыточности страховой суммы, зависящей от вероятности наступления страхового случая (q), средней страховой суммы (S_c) и средней суммы страхового возмещения (S_{ec}).

Нетто-ставка целиком предназначается для создания фонда выплат страхователям. В связи с этим она должна быть построена таким образом, чтобы обеспечить эквивалентность взаимоотношений между страховщиком и страхователем. Иными

словами, страховая компания должна собрать столько страховых премий, сколько предстоит потом выплатить страхователям.

Основная часть нетто–тарифа рассчитывается по формуле

$$T_o = S_{\text{вс}} q \cdot Sc$$

Рисковая надбавка T_p вводится для того, чтобы учесть вероятность превышения количества страховых случаев относительно их среднего значения. Кроме q , S_c , $S_{вс}$, рисковая надбавка зависит еще от трех параметров: N – число договоров, отнесенных к периоду времени, на который проводится страхование; R_B – среднего разброса (среднеквадратического отклонения) сумм страхового возмещения; β – гарантии безопасности (β – вероятность, с которой собранные взносы обеспечивают выплату возмещения по страховым случаям).

Если у страховой компании (организации) нет данных о величине R_B , то допускается расчет рисковой надбавки по формуле

$$T_p = 1,2 T_0 \left(\frac{R_B}{Nq} \right)^{\beta} q.$$

Приведенные формулы для расчета рисковой надбавки тем точнее, чем больше величина Nq (M). При $M < 10$ они носят приближенный характер. Если о величинах q , S_c , $S_{вс}$ нет достоверной информации, например, когда они оцениваются не по вышеприведенным формулам, а из других источников, то рекомендуется брать $\beta = 3$.

Брутто-тариф T_b рассчитывается по формуле

$$T_b = T_n + \frac{T_n}{100} f,$$

T_n – нетто – тариф; f – коэффициент

f – доля нагрузки в брутто–тарифе, %.

Однако при проведении страхования сумма выплачиваемого страхового возмещения пострадавшим объектам, как правило, отклоняется от страховой суммы по ним. Причем если по отдельному договору выплата может быть, только меньше или равна страховой сумме, то средняя по группе объектов выплата на один договор может и превышать среднюю страховую сумму.

При построении нетто–ставки учитывается как раз последний показатель. В этих условиях рассчитанная в изложенном порядке нетто–ставка корректируется на коэффициент, определяемый отношением средней выплаты к средней страховой сумме на один договор.

Контрольные вопросы:

1. Что такое страховой тариф и из чего он состоит?
2. На основе каких зависимостей строится расчет страховых тарифов?
3. Какой смысл средней суммы страхового возмещения?
4. Какие факторы влияют на формирование нетто–тарифа, а какие – на формирование брутто–тарифа?
5. Объясните понятие «средняя убыточность страховой суммы»?
6. Каковы особенности и задачи актуарных расчетов?

Практическая работа

ВЫБОР И РАСЧЕТ СТАЛЬНОГО КАНАТА ДЛЯ СТРОПА

Задание

1. Выбрать стальной канат для стропа, применяемого для подъема груза с определенным углом наклона стропа к направлению действия веса груза.

2. Для выбранного каната рассчитать длину, необходимую для изготовления ветви облегченного стропа УСК1 (заделка концов каната заплеткой).

Исходные данные для выбора каната и его расчета представлены в табл. 9.1 и на рис. 9.1, 9.2.

48

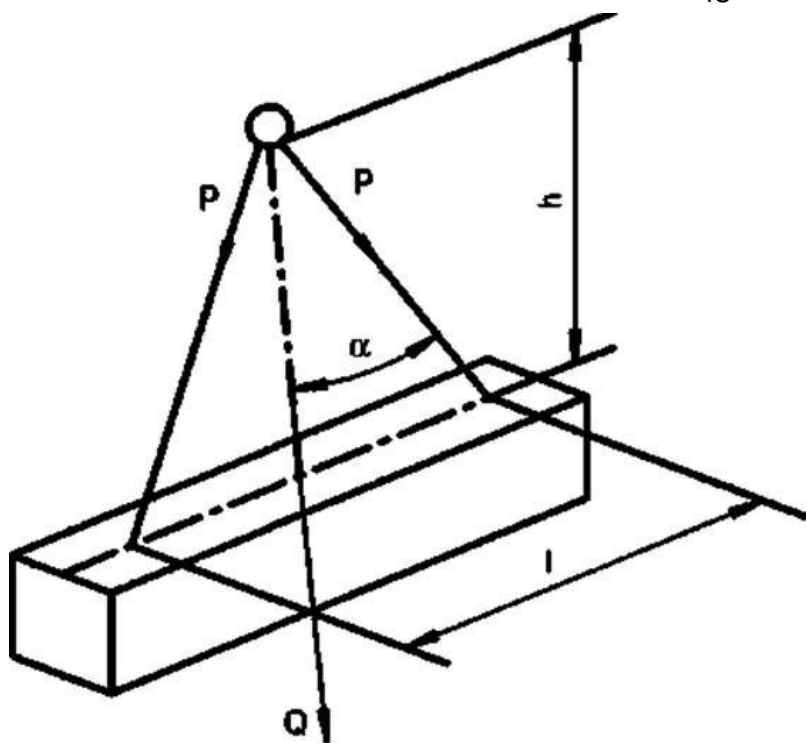


Рисунок 9.1 – Схема к расчету двухветвевго стропа

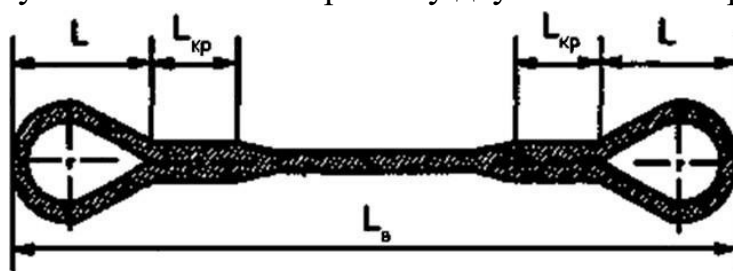


Рисунок 9.2 – Строп облегченный УСК 1

Таблица 9.1 – Исходные данные для выбора и расчета стального каната для стропа

Параметры	Варианты									
	Последняя цифра номера зачетной книжки									
	1	2	3	4	5	6	7	8	9	0

Масса груза, т	1	2	3,5 0	4	5	6,5	7	8	9	10
Угол наклона стропа к направлению действия веса груза α , град.	24	27	30	35	32	33	36	37	34	41
Высота строповки h , м	1,5	1,7	2	2,4	2,5	2,7	2,9	3	3,5	4
Длина петли ветви стропа L , мм	140	150	190	200	230	250	220	230	210	200

49

Методика решения

$$P = m_{\text{гр}} g / n \cos \alpha,$$

Определим натяжение в одной ветви стропа по формуле:

где $m_{\text{гр}}$ – масса груза, т;

n – количество ветвей стропа.

Разрывное усилие в ветви стропа определим по формуле:

$$S = P \cdot z,$$

где z – коэффициент запаса прочности для стропа. Запас прочности для канатов по отношению к разрывному усилию должен приниматься не менее 6,0.

По найденному разрывному усилию подбирается канат (см. табл.) и определяется его техническая характеристика: тип каната; диаметр каната; разрывное усилие каната; временное сопротивление проволок разрыву.

Длину выбранного каната рассчитаем следующим образом. Длину ветви стропа

$$L_{\text{в}} = h / \cos \alpha.$$

определим по формуле:

Длину каната, необходимого на образование петли ветви стропа определим по формуле :

$$L_{\text{п}} = 3\pi d_{\text{к}} + [4(1 - 3d_{\text{к}})^2 + 36d_{\text{к}}^2]^{0,5}.$$

Длину каната, необходимого на заплетку определим по формуле 1.5:

$$L_{\text{з}} = 20d_{\text{к}}.$$

Длину каната, необходимого на крепление определим по формуле 1.6:

Минимальную длину каната ветви стропа определим по формуле 1.7:

$$L_{кр} = L_{п} + L_{з}.$$
$$L_{к} = L_{в} + 2L_{кр} + 2L.$$

Вывод. Для изготовления ветви стропа при заделке концов каната заплеткой необходим отрезок каната типа ... длиной не менее ... м.

Пример выполнения практической работы Задание

1. Выбрать стальной канат для стропа, применяемого для подъема груза массой 4 т, угол наклона стропа к направлению действия веса груза $\alpha = 30^\circ$.
2. Для выбранного каната рассчитать длину, необходимую для изготовления ветви стропа (заделка концов каната заплеткой). Параметры строповки (см. рис. 1.1): $h = 2$ м, $\alpha = 30^\circ$. Длина петли ветви стропа (см. рис. 1.2) $L = 0,144$ м.

50

Решение задания 1

Определим натяжение в одной ветви стропа по формуле: Разрывное усилие в ветви стропа определим по формуле: $P = 4000 \cdot 9,81/2 \cdot \cos 30^\circ = 22655,2$ Н .

$$S = 22655,2 \cdot 6 = 135931,3 \text{ Н.}$$

По найденному разрывному усилию подобрали канат (см.табл.) и определили его технические характеристики:

- тип каната ЛК–РО ГОСТ 7668–80;
- диаметр каната – 16,5 мм;
- разрывное усилие каната – 150000 Н;
- временное сопротивление проволок разрыву – 1770 МПа,

Решение задания 2

Длина выбранного каната рассчитывается следующим образом.

Определим длину ветви стропа по формуле:

Определим длину каната, необходимого на образование

$$L_{\text{п}} = 3\pi d_{\text{к}} + [4(1 - 3d_{\text{к}})^2 + 36d_{\text{к}}^2]^{0,5} =$$

$$= 3 \cdot 3,14 \cdot 0,0165 + [4 \cdot (1 - 3 \cdot 0,0165)^2 + 36 \cdot 0,0165^2]^{0,5} = 0,37 \text{ м.}$$

петли ветви стропа по формуле:

Определим длину каната, необходимого на заплетку по формуле:

Определим длину каната, необходимого на крепление по формуле:

Определим минимальную длину каната ветви стропа по формуле: Вывод. Для изготовления ветви стропа при заделке концов каната заплеткой необходим отрезок каната типа ЛК–РО длиной не менее 3,9 м. Таблица 9.2 – ГОСТ 2688–80. Канат двойной свивки типа ЛК–Р

Диаметр каната, мм	Расчетная площадь сечения всех проволок, мм ²	Масса 1000 м каната, кг	Суммарное разрывное усилие всех проволок/разрывное усилие каната в целом (Н) для маркировочных групп, Н/мм ² (кгс/мм ²)					
			1570(160)		1670(170)		1770(180)	
3.6	4.98	48.8	–	–	–	–	2780	7465
3.8	5.63	55.1	–	–	–	–	9930	8400

51

4.1	6.55	64.1	–	–	–	–	11550	9750
4.8	8.62	84.4	–	–	–	–	15200	12850
5.1	9.76	95.5	–	–	–	–	17200	1460
5.6	11.9	116.5	18650	15800	19800	16800	20950	17800
6.2	14.47	141.6	22650	19250	24100	20100	25500	21100
6.9	18.05	176.6	28300	24000	30050	25500	31800	26300
7.6	21.57	211.0	33860	28700	35900	30500	38000	32300
8.3	26.15	256.0	41000	34800	43550	36950	46100	38150
9.1	31.18	305.0	48850	41500	51900	44100	55000	45450
9.6	36.66	358.6	57450	48850	61050	51850	64650	53450
11.0	47.19	461.6	73950	62850	78600	66750	83200	68800
12.0	53.87	527.0	84450	71750	89700	76200	95000	78550
13.0	61.0	596.6	95600	81250	101500	86800	107500	89000
14.0	74.40	728.0	116500	98950	123500	105000	131000	108000
15.0	86.28	844.0	135000	114500	143500	122000	152000	125500

16.5	104.61	1025,0	164000	139000	174000	147500	184500	152000
18.0	124.73	1220.0	195500	166000	207500	176000	220000	181500
19,5	143.61	1405.0	225000	191000	239000	203000	253000	209000
21,0	167,03	1635,0	261500	222000	278000	236000	294500	243500
22,5	188,78	1850,0	296000	251000	314500	267000	333000	275000
24.0	215,0	2110.0	337500	287000	359000	304500	380000	314000

Таблица 9.3 – ГОСТ 3070. Канат двойной свивки типа ТК

Диаметр каната, мм	Расчетная площадь сечения всех проволок, мм ²	Масса 1000 м каната, кг	Суммарное разрывное усилие всех проволок/разрывное усилие каната в целом (Н) для маркировочных групп, Н/мм ² (кгс/мм ²)					
			1570(160)		1670(170)		1770(180)	
3,3	3,62	35,5	–	–	–	–	6385	5490
3,6	4,38	42,9	–	–	–	–	7725	6640
3,9	5,20	51,0	–	–	–	–	9170	7885
4,2	6,10	59,8	–	–	–	–	10750	9245
4,5	7,07	69,3	–	–	–	–	12450	10700
4,8	8,12	79,6	12700	10900	13500	11600	14300	12250
5,5	10,42	102,6	16300	14000	17350	14900	18350	15750
5,8	11,67	114,5	18250	15650	19400	16650	20550	17650

52

6,5	14,53	142,5	22750	19550	24200	20800	25600	22000
8,1	22,64	222,0	35450	30450	37700	32400	39900	34300
9,7	32,52	319,0	50950	43800	54150	46550	57350	49300
13,0	57,70	565,5	90450	77750	96100	82600	101500	87250

Таблица 9.4 – ГОСТ 3071. Канат двойной свивки типа ТК

Диаметр каната, мм	Расчетная площадь сечения всех проволок, мм ²	Масса 1000 м каната, кг	Суммарное разрывное усилие всех проволок/разрывное усилие каната в целом (Н) для маркировочных групп, Н/мм ² (кгс/мм ²)					
			1570(160)		1670(170)		1770(180)	
5,0	8,48	82,5	–	–	–	–	14950	12250
5,4	10,08	98,1	–	–	–	–	17750	14550

5,8	11,84	115,5	–	–	–	–	20850	17050
6,3	13,73	134,0	–	–	–	–	24200	19800
6,7	15,75	153,0	24650	20200	26200	21450	27750	22750
7,6	20,22	197,0	31700	25950	33650	27550	35650	29200
8,5	25,25	246,0	39550	32400	42050	34450	44500	36450
9,0	28,10	273,5	44050	36120	46800	38350	49550	40600
11,5	43,85	427,0	68750	56350	73050	59900	77350	63400
13,5	63,05	613,5	98850	81050	105000	86100	111000	91000

Таблица 9.5 – ГОСТ 3077. Канат двойной свивки типа ЛК–О

Диаметр каната, мм	Расчетная площадь сечения всех проволок, мм ²	Масса 1000 м каната, кг	Суммарное разрывное усилие всех проволок/разрывное усилие каната в целом (Н) для маркировочных групп, Н/мм ² (кгс/мм ²)					
			1570(160)		1670(170)		1770(180)	
4,6	7,94	77,8	–	–	–	–	14000	11550
5,1	9,79	95,9	–	–	–	–	17250	14250
5,7	12,88	126,0	–	–	–	–	22700	18800
6,4	15,63	153,0	–	–	–	–	27550	22800
7,8	22,47	220,5	35200	29900	37400	31300	39600	32750
8,8	29,92	293,6	46900	29800	49800	42350	52750	43650
10,5	39,54	387,5	61950	52650	65850	55950	69700	57560
11,5	49,67	487,0	77850	66150	82750	70300	87600	72450
12,0	54,07	530,0	84750	72000	90050	76500	95350	78850

53

13,0	60,94	597,3	95550	81100	101500	86150	107000	88700
14,0	73,36	719,0	115000	97750	122000	103500	129000	106500
15,0	86,95	852,5	136000	115500	144500	122500	153000	126500
16,5	101,68	996,5	159000	135000	169000	143500	179000	147500
17,5	117,58	1155,0	184000	156000	195500	166000	207000	171500
19,5	139,69	1370,0	219000	183000	232500	197000	246000	203500
20,5	158,19	1550,0	248000	210500	263500	223500	279000	230500
22,0	177,85	1745,0	278500	236500	296000	251000	313500	259000

23,0	198,67	1950,0	311500	264500	330500	281000	350000	289500
25,5	243,76	2390,0	382000	324500	406000	344500	429500	335500
28,0	293,48	2880,0	460000	391000	488500	415500	517500	428000
30,5	347,82	3410,0	545000	463500	579000	492000	613500	507500
32,5	406,77	3990,0	637500	541500	677500	575500	717500	593000

Таблица 9.6 – ГОСТ 7668. Канат двойной свивки типа ЛК–РО

Диаметр каната, мм	Расчетная площадь сечения всех проволок, мм ²	Масса 1000 м каната, кг	Суммарное разрывное усилие всех проволок/разрывное усилие каната в целом (Н) для маркировочных групп, Н/мм ²					
			1570(160)		1670(170)		1770(180)	
15,0	82,16	812,0	128500	104500	136500	111500	144500	116500
16,5	105,73	1045,0	165500	135500	176000	144000	186500	150000
18,0	125,78	1245,0	197000	161500	209500	171500	221500	175500
20,0	153,99	1520,0	241000	197500	256500	210000	271500	215000
22,0	185,10	1830,0	290000	237500	308000	252500	326500	258500
23,5	215,0	2130,0	338500	277000	369500	294000	380500	304000
25,5	252,46	2495,0	395500	324000	420500	344000	445000	352500
27,0	238,79	2800,0	444500	364500	472500	387500	500500	396500
29,0	325,42	3215,0	510000	417500	542000	444000	574000	454500
31,0	369,97	3655,0	580000	475000	616000	505000	652500	517000
33,0	420,96	4155,0	660000	540500	701000	574500	742500	588000
34,5	461,07	4550,0	722500	592000	768000	629500	813000	644500
36,5	503,09	4965,0	788500	646000	838000	686500	887000	703500

54

38,0	558,07	5510,0	875000	717500	929500	762000	984000	777500
39,5	615,95	6080,0	965500	791500	1025000	841000	1085000	861000
42,0	683,68	6750,0	1070000	878500	1135000	933500	1025000	955500
43,0	717,18	7120,0	1120000	919500	1190000	976000	1265000	1005000
44,5	787,38	7770,0	1230000	1005000	1310000	1065000	1385000	1095000

46,5	850,76	8400,0	1330000	1090000	1415000	1160000	1500000	1180000
48,5	927,12	9155,0	1450000	1190000	1540000	1265000	–	–

Таблица 9.7 – ГОСТ 7669–80. Канат двойной свивки типа ЛК–РО

Диаметр каната, мм	Расчетная площадь сечения всех проволок, мм ²	Масса 1000 м каната, кг	Суммарное разрывное усилие всех проволок/разрывное усилие каната в целом (Н) для маркировочных групп, Н/мм ² (кгс/мм ²)					
			1570(160)		1670(170)		1770(180)	
14,5	96,36	906,0	151000	120500	160500	128000	169500	130000
16,0	121,87	1145,0	191000	152000	203000	162000	214500	165000
17,5	145,03	1360,0	227000	181500	241500	193000	255500	196000
19,5	179,07	1630,0	280500	224000	298000	238500	315500	242500
21,0	213,39	1950,0	334500	267500	355500	284000	376000	289500
23,0	251,21	2290,0	393500	315000	418500	334500	443000	341000
25,0	292,10	2660,0	458000	366000	486500	389000	515000	396000
26,5	327,43	2975,0	513000	410000	545000	436000	577500	444000
28,0	373,25	3395,0	585000	467000	621500	497000	658000	506500
30,0	426,76	3890,0	669000	535000	710500	568000	752500	579000
32,5	487,48	4445,0	764000	611000	812000	649000	859500	661500
35,5	580,11	5290,0	909500	727500	966000	772500	1020000	787500
36,5	646,37	5895,0	1010000	810000	1075000	861000	1140000	877500
39,0	716,29	6530,0	1120000	898000	1190000	954500	1260000	972500
41,0	796,83	7265,0	1245000	994500	1325000	1055000	1405000	1075000
42,0	843,90	7965,0	1320000	1050000	1405000	1115000	1485000	1140000

Задание

1. Выполнить пакетирование грузовых единиц, т.е. осуществить формирование транспортного пакета.
2. Определить массу сформированного транспортного пакета Исходные данные для формирования транспортного пакета представлены в табл. 10.1.

Таблица 10.1 – Исходные данные для формирования транспортного пакета

Параметры	Варианты									
	Последняя цифра номера зачетной книжки									
	1	2	3	4	5	6	7	8	9	0
Вид груза	Кирпич керамический полнотелый одинарный К–О 150/15	Цемент марки 300	Доска сосновая обрезная толщина 25 мм, длина 4 м	Краска эмалевая белая в металлических банках	Тротуарная бетонная плита, 250×250мм	Крупа гречневая булгурных пакетах	Картофель	Тушенка говяжья в металлических банках	Томатная паста в металлических банках	Пиво в стеклянных бутылках емкость по 0,5 л
Вид тары	–	Бумажные мешки	–	Деревянные ящики	–	Ящик из гофрированного картона	Деревянные ящики	Ящики из гофрированного картона	Ящики из гофрированного картона	Ящики из гофрированного картона
Масса нетто, кг	650	–	–	–	800	–	–	–	–	–
Масса брутто единицы тары, кг	–	45	–	30	–	10	35	12,8	15,2	18,3
Вид поддона*	Сп	С	О	С	НС	С	С	С	С	С

Наружные размеры тары, мм: длина ширина высота	–	700	–	420	–	380	640	356	386	330
		500		400		190	400	270	234	270
		150		170		171	285	238	264	280
Сп – специальный поддон для перевозки кирпича; С – стандартный поддон (1200×1000 мм или 1200×800 мм); О – пакет формируется без поддона; НС – не- стандартный поддон (размеры поддона могут быть любые)										

Пример выполнения практической работы

Последовательность расчета следующая.

1. Транспортный пакет формируется путем укладки на стандартные плоские поддоны. Груз упакован в одинаковые ящики, с наружными размерами по ГОСТ 10131–93.

В качестве поддона для перевозки овощей для условий конкретного примера выбирается поддон по ГОСТ 9078–84.

Транспортные пакеты скрепляются средствами скрепления ящиков по ГОСТ 26663–85.

2. Масса транспортного пакета определяется по следующей формуле:

$$M_{\text{ТП}} = M_{\text{П}} + \sum M_{\text{Т}} + m,$$

где $M_{\text{П}}$ – масса поддона, кг;

$M_{\text{Т}}$ – масса бруттоединицы тары, кг;

m – масса средств скрепления.

Пример

1. Выполнить пакетирование грузовых единиц, т.е. осуществить формирование транспортного пакета.

2. Определить массу сформированного транспортного пакета.

Исходные данные:

а). Вид груза – картофель.

б). Вид тары – деревянные ящики размером: длина 620 мм, ширина 400 мм, высота 285 мм.

в). Масса брутто единицы тары – 40,7 кг.

57

г). Вид поддона – стандартный размером в плане 1200×1000 мм или 1200×800 мм.

Решение

1. Транспортный пакет формируется путем укладки на стандартные плоские поддоны деревянных ящиков с картофелем.

Картофель упакован в одинаковые ящики. Наружные размеры ящиков: длина 620 мм, ширина 400 мм, высота 285 мм (ГОСТ 10131–93). Масса груза в ящике 36 кг.

Собственная масса ящика 4,7 кг, т.е. масса брутто единицы тары – 40,7 кг.

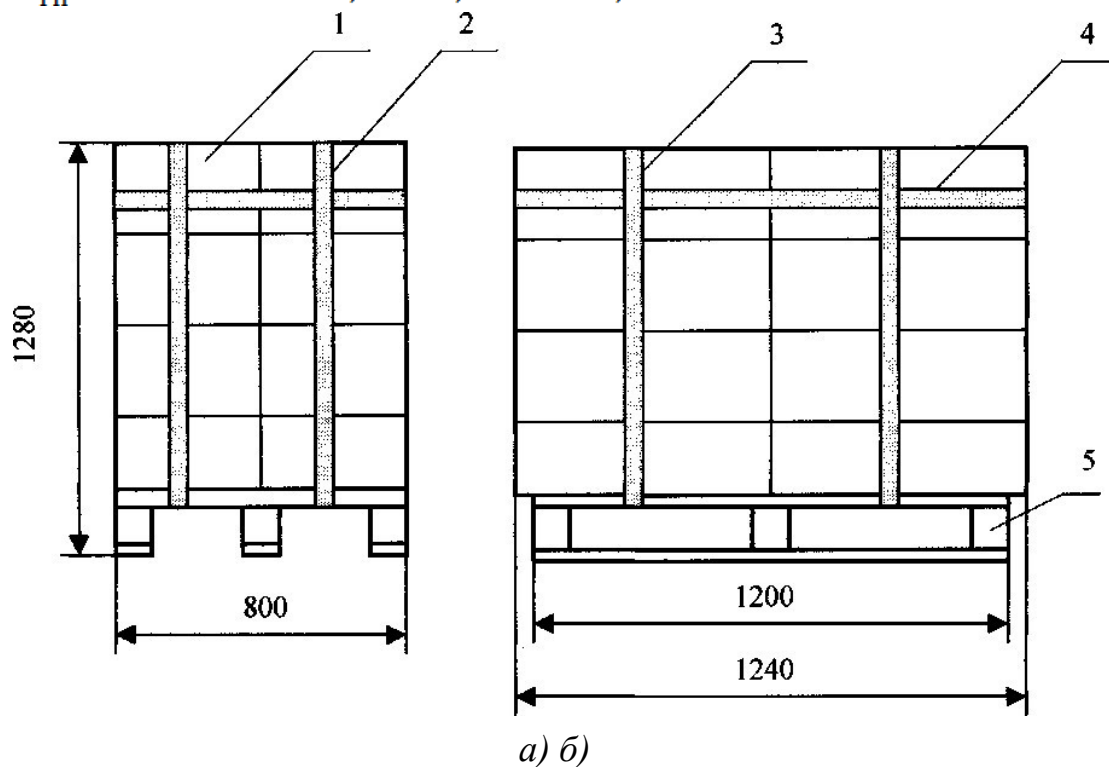
В качестве поддона для перевозки овощей для условий конкретного примера выбран однонастильный четырехзаходный поддон типа П4 (ГОСТ 9078–84), основные размеры которого (в мм): длина 1200, ширина 800, высота 140. Масса поддона 25 кг.

В качестве средств скрепления ящиков с овощами в транспортных пакетах возможно использование синтетической ленты шириной 20 мм по ГОСТ 26663–85.

Схема создания укрупненной грузовой единицы и формирования транспортного пакета представлена на рис. 10.1.

2. Масса транспортного пакета определяется по следующей формуле
3.1:

$$M_{\text{ТП}} = 25 + 16 \cdot 40,7 + 0,2 = 676,4 \text{ кг.}$$



58

1 – грузовое место (ящик с картофелем); 2, 3 – вертикальные обвязки из синтетической ленты; 4 – горизонтальная обвязка из синтетической ленты; 5 – поддон П4

Рисунок 10.1 – Схема укрупненной грузовой единицы и формирования транспортного пакета: а) вид пакета спереди; б) вид пакета сбоку

Вывод: осуществили формирование транспортного пакета и определили его массу 676,4 кг.

Практическая работа

ОПРЕДЕЛЕНИЕ ПЛОЩАДИ, НЕОБХОДИМОЙ ДЛЯ СКЛАДИРОВАНИЯ КОНТЕЙНЕРОВ

Задание

Определить площадь, необходимую для складирования контейнеров по данным приведенным в табл. 11.1. Контейнерный терминал обслуживает (Марка АТС).

Контейнеры (*Тип контейнера*) прибывают на терминал по железной дороге. Их прибытие непрерывно в течение времени работы терминала – (*Время работы терминала, ч*). Кран перегружает контейнеры непосредственно в автомобили (*Марка АТС $T_{ц} = \dots$ мин; $\eta_u = \dots$*), а при отсутствии автомобилей – на контейнерную площадку (*$T_{ц} = \dots$ мин; $\eta_u = \dots$, $k_c = \dots$*). Расстояние перевозки контейнеров ... км; $v_T = \dots$ км/ч; $t_p = \dots$ мин; $A_3 = \dots$

Таблица 11.1 – Исходные данные для определения площади складирования контейнеров

Параметры	Варианты									
	Последняя цифра номера зачетной книжки									
	1	2	3	4	5	6	7	8	9	0
Тип контейнера	АУК –0,625	АУК \pm 25	УУК –3	АУК –0,625	АУК \pm 25	АУК –0,625	УУК –3	АУК –0,625	АУК \pm 25	УУК –3

59

Марка АТС	ГАЗ –3307	ГАЗ –3309	ЗИЛ–4331	ЗИЛ–4333	ЗИЛ–5301	КамАЗ –43114	КамАЗ –53215	Урал–4320	КамАЗ –4326	МАЗ–5336
Количество АТС A_3 , шт.	4	5	3	6	4	7	6	9	8	6
$T_{ц}$ при погрузке на автомобиль, мин	2,7	2,9	2,8	3,0	2,6	2,5	2,8	3,1	3,2	3,0
$T_{ц}$ при погрузке на площадку, мин	3,4	3,2	3,3	3,9	3,1	3,4	3,5	3,9	4,0	3,8
η_u при погрузке на автомобиль	0,8	0,7	0,9	0,8	0,9	0,7	0,8	0,6	0,9	0,8

$\eta_{\text{н}}$ при погрузке на площадку	0,6	0,5	0,7	0,6	0,7	0,5	0,6	0,4	0,8	0,5
$v_{\text{т}}$, км/ч	18	19	21	20	23	24	23	20	23	21
$t_{\text{р}}$, мин	23	25	31	32	26	35	37	34	33	34
Время работы терминала, ч	12	14	16	18	10	18	16	14	20	24
Расстояние перевозки контейнеров, км	14	12	16	23	10	17	20	12	11	19

Методика выполнения практической работы

1. Определить производительность крана при прямой перегрузке по формуле:

$$W_{\text{э}} = \frac{3600 q_{\text{к}} k_{\text{в}} \eta_{\text{н}}}{T k_{\text{с}}},$$

где $q_{\text{к}}$ – масса одновременно поднимаемого груза, т (м^3); $k_{\text{в}}$

– коэффициент наполнения;

T – продолжительность единичного цикла работы ПРМ, с;

$k_{\text{с}}$ – коэффициент совмещения операций, учитывающий

возможность одновременного выполнения некоторых перемещений, например поворота и подъема стрелы. $\eta_{\text{н}}$ – коэффициент интенсивности работы (отношение времени работы к продолжительности рабочей смены);

60

2. Определить, сколько контейнеров перевезет автомобиль за один рейс по формуле. Для этого, определяем размеры кузова автомобиля (самостоятельно) и

$$N_{\text{контейнеров}} = L_{\text{кузова}} \cdot B_{\text{кузова}} / L_{\text{контейнера}} \cdot B_{\text{контейнера}},$$

размеры контейнера (по табл. 11.2).

где, $L_{\text{кузова}}$ и $B_{\text{кузова}}$ – длина и ширина кузова автомобиля, м;

$L_{\text{контейнера}} \cdot B_{\text{контейнера}}$ – длина и ширина контейнера, м.

3. Определить, массу груза, перевезенного автомобилем за один рейс, по формуле:

$$m_{\text{брутто}} - q_{\text{ф}} = m_{\text{брутто}} \cdot N_{\text{контейнеров}},$$

где масса брутто контейнера, т.

количество контейнеров, перевезенное автомобилем

$$N_{\text{контейнеров}} -$$

за один рейс, шт.

4. Определить время погрузки по формуле:

$$t_{\text{п}} = N_{\text{контейнеров}} / W_{\text{э}}.$$

$$t_{\text{о}} = 2 \cdot l_{\text{е.г}} / V_{\text{т}} + t_{\text{п}} + t_{\text{р}},$$

5. Определить время оборота по формуле:

где $V_{\text{т}}$ – скорость перевозки контейнеров, км/ч; расстояние перевозки контейнеров, км; время погрузки, мин;

$$l_{\text{е.г}} -$$

$$t_{\text{п}} -$$

$$t_{\text{р}} -$$

время разгрузки, мин.

6. Определить число оборотов по формуле:

$$n_{\text{о}} = T_{\text{терминала}} / t_{\text{о}},$$

где $T_{\text{терминала}}$ – времени работы терминала, ч.

7. Определить производительность одного автомобиля по формуле:

8. Всего четыре автомобиля за смену вывезут по формуле: где $A_{\text{э}}$ – количество АТС, шт.

$$Q_{\text{а}} = U_{\text{р.д}} \cdot A_{\text{э}},$$

9. Определить сколько кран будет работать на прямой перегрузке по формуле:

$$T_{\text{пр.перегр.}} = Q_{\text{а}} / W_{\text{э}}.$$

10. Определить производительность крана при перегрузке контейнеров на

61

площадку по формуле.

11. Определить сколько всего контейнеров будет перегружено на площадку по формуле:

$$Q_{\Pi} = (T_{\text{терминала}} - T_{\text{пр.перегр.}}) \cdot W_{\Sigma}.$$

12. Требуемую площадь контейнерной площадки определяем по формуле:

$$F_c = 10Q_{\text{сут}} t_{\text{хр}} k_{\text{пр}} / \sigma.$$

где $Q_{\text{сут}}$ – суточный объем переработки груза на складе, т;

$t_{\text{хр}}$ – средний срок хранения товаров на складе, сут.; для контейнеров принимается $t_{\text{хр}} = 3 \dots 4$ сут.;

$k_{\text{пр}}$ – коэффициент использования площади; для контейнеров принимается $k_{\text{пр}} = 1,4$;

– σ нагрузка на 1 м² площади склада, кПа; для контейнеров принимается $\sigma = 6$ кПа.

Таблица 11.2 – Характеристики универсальных контейнеров

Обозначение	Масса, т		Внутренний объем, м ³	Габаритные размеры, мм		
	брутто	тары		длина	ширина	высота
АУК–0,625	0,625	0,26	1,5	1150	1000	2000
АУК–1,25	1,25	0,36	3,0	1800	1050	2000
УУК–3	2,5	0,58	5,2	2100	1325	2400
УУК–5	5,0	0,95	10,4	2100	2650	2400
1D	10,2	0,85	14,3	2991	2438	2438
1C	24,0	2Д	30,0	6058	2438	2438
1B	25,4	3,0	45,7	9125	2438	2438
1A	30,48	3,4	61,3	12192	2438	2438

Пример выполнения практической работы

Задание

Контейнерный терминал обслуживает козловой кран КК–5. Контейнеры АУК–1,25 прибывают на терминал по железной дороге. Их прибытие непрерывно в течение

времени работы терминала – 14 ч. Кран пере- грузает контейнеры непосредственно в автомобиле ЗИЛ–432930 ($T_{ц} = 2,8$ мин; $\eta_{и} = 0,9$), а при отсутствии автомобилей –

62

на контейнерную пло- щадку ($T_{ц} = 3,4$ мин; $\eta_{и} = 0,7$); $k_c = 1$. Расстояние перевозки контейнеров 10 км; $v_T = 20$ км/ч; $t_p = 30$ мин; $A_3 = 4$.

Решение

1. Производительность крана при прямой перегрузке рассчитаем по формуле:

$$W_3 = (3600 \cdot 1 \cdot 0,9)/(2,8 \cdot 60) = 19,3 = 19 \text{ контейнеров/ч.}$$

2. Определим, сколько контейнеров перевезет автомобиль за один рейс по формуле. Для этого, определим размеры кузова автомобиля и размеры контейнера.

Размеры кузова автомобиля $2,3 \times 3,7 = 8,51$ м, размеры контейнера (по табл. 4.2) $1800 \times 1050 = 1,89$ м.

$$N_{\text{контейнеров}} = 2,3 \cdot 3,7 / 1,8 \cdot 1,05 = 4 \text{ контейнера.}$$

Автомобиль за один рейс перевезет 4 контейнера.

3. Определим, массу груза, перевезенного автомобилем за один рейс, по формуле:

$$q_{\phi} = 1,25 \cdot 4 = 5 \text{ т.}$$

4. Определим время погрузки по формуле:

$$t_{ц} = 4/19 = 0,21 \text{ ч.}$$

5. Определим время оборота по формуле:

$$t_o = 2 \cdot 10/20 + 0,21 + 0,5 = 1,71 \text{ ч.}$$

6. Определить число оборотов по формуле:

$$n_o = 14/1,71 = 8,19 = 8 \text{ оборотов.}$$

7. Определить производительность одного автомобиля по формуле:

$$U_{p,d} = 8 \cdot 4 = 32 \text{ контейнера.}$$

8. Всего четыре автомобиля за смену вывезут по формуле: На прямой перегрузке кран будет работать

$$Q_a = 32 \cdot 4 = 128 \text{ контейнеров.}$$

9. Определить сколько кран будет работать на прямой перегрузке по формуле:

$$T_{\text{пр.перегр.}} = 128/19 = 6,74 \text{ ч.}$$

10. Определить производительность крана при перегрузке контейнеров на площадку по формуле.

$$W_3 = (3600 \cdot 1 \cdot 0,7)/(3,4 \cdot 60) = 12,4 = 12 \text{ контейнеров/ч.}$$

63

11. Определить сколько всего контейнеров будет перегружено на площадку по

$$Q_{\text{п}} = (14 - 6,74) \cdot 12 = 87,12 = 87 \text{ контейнов.}$$

формуле:

12. Требуемую площадь контейнерной площадки определяем по формуле:

$$F_c = 87 \cdot 1,25 \cdot 3 \cdot 1,4 \cdot 10/6 = 761,35 \text{ м}^2.$$

Вывод: площадь, необходимая для складирования контейнеров рав- на $761,35 \text{ м}^2$.

Практическая работа

ОПРЕДЕЛЕНИЕ ПРОПУСКНОЙ СПОСОБНОСТИ ПОГРУЗОЧНО-РАЗГРУЗОЧНОГО ПУНКТА

Задание

Рассчитать необходимое количество автосамосвалов и многоковшовых погрузчиков, обеспечивающих работу ПРП, по данным приведенным в табл. 13.1.

Таблица 13.1 – Исходные данные для определения пропускной способности погрузочно–разгрузочного пункта

Параметры	Варианты									
	Последняя цифра номера зачетной книжки									
	1	2	3	4	5	6	7	8	9	0
Марка самосвала	ЗИЛ–ММЗ–4502	МАЗ–5549	КрАЗ–256Б1	Урал–55571	КамАЗ–65111	КамАЗ–55102	КамАЗ–6540	КамАЗ–55111	МАЗ–5516	МАЗ–555102

Протяженность маршрута с грузом $l_{ег}$, км	14	17	22	21	15	12	9	24	19	6
Техническая скорость v_T , км/ч	31	27	22	24	32	31	30	29	26	28
Время разгрузки t_p , мин	5	7	9	7	8	7	4	5	6	8
Вид груза	песок	уголь	щебень	торф	гравий	песок	уголь	щебень	торф	гравий
Объем груза, вывозимого с ПРП, т	700	650	720	450	670	890	350	450	500	540

64

Марка погрузчика	Д-565									
Коэффициент использования объема ковша k_v	0,75	0,93	0,87	0,69	0,82	0,92	0,89	0,90	0,79	0,91
Коэффициент использования погрузчика η_n	0,59	0,65	0,69	0,72	0,58	0,67	0,71	0,76	0,64	0,68
Время работы ПРП, ч	8	9	10	11	12	14	16	18	20	24

Методика выполнения практической работы

1. Рассчитать массу одного грузового места по формуле 6.1:

$$q_i = V_{\text{кш}} \rho k_v,$$

где k_v – коэффициент использования объема ковша; $V_{\text{кш}}$

– объем ковша, м³.

• 2. Определить производительность многоковшового погрузчика по формуле :

$$W_э = \frac{3600 q_i V \eta_{\text{и}}}{a},$$

где q_i – масса одного грузового места, т; V –

скорость движения тягового органа, м/с;

$\eta_{\text{и}}$ – коэффициент интенсивности работы (отношение времени работы к продолжительности рабочей смены); a – шаг размещения груза, м.

3. Определить, сколько переработает за смену один погрузчик по формуле :

$$W_{\text{р.д}} = W_э \cdot t,$$

где t – время работы ПРП, ч

4. Необходимое число погрузчиков определяется по формуле:

$$A_{\text{пр}} = Q_{\text{сут}} / W_{\text{р.д}},$$

где $Q_{\text{сут}}$ – объем груза, вывозимого с ПРП, т.

5. Фактическая грузоподъемность автосамосвала при перевозке рассчитывается следующими образом. Сначала определяется плотность навалочных грузов по табл.

13.2.

Таблица 13.2 – Характеристики основных навалочных грузов

Наименование	Плотность, т/м ³	Угол откоса	
		в движении	в покое
Глина сухая	1,8–2,0	40	40
Глина сырая	2,0–2,1	20	25
Гравий	1,5–2,0	30	45
Земля	1,6–1,9	17	27
Зерно	0,6–0,75	28	35

Картофель	0,6–0,75	20	28
Песок	1,4–1,6	30	33
Торф	0,5	40	45
Уголь	0,8	30	45
Шлак	0,7	35	50
Щебень	1,8–2,0	35	45

Максимальный объем угля в кузове самосвала определяется по формуле :

$$V = V_{\text{к}} + (b_{\text{к}}/2)^3 \text{tg} \alpha_{\text{дв}},$$

где $V_{\text{к}}$ – геометрический объем кузова, м³; $b_{\text{к}}$ – ширина кузова, м; –

угол естественного откоса в движении.

6. Фактическая грузоподъемность автосамосвала при перевозке угля определяется

$$q_{\text{ф}} = V\rho.$$

по формуле :

7. Время погрузки экскаватором Д–565 одного автосамосвала определяется по формуле :

8. Время оборота автосамосвала определяется по формуле : где $l_{\text{гр}}$ – протяженность маршрута с грузом, км; $v_{\text{т}}$ – техническая скорость, км/ч.

$$t_{\text{о}} = 2l_{\text{е.г}}/v_{\text{т}} + t_{\text{п-р}},$$

9. Необходимое число АТС для бесперебойной работы погрузчиков определяется

$$A_{\text{э}} = W_{\text{э}} A_{\text{пр}} t_{\text{о}} / q_{\text{ф}}.$$

по формуле :

Пример выполнения практической работы

Задание

Рассчитать необходимое количество автосамосвалов МАЗ–457040 и многоковшовых погрузчиков Д–565, работающих 7 ч в сутки, для вывоза со склада ежесуточно 900 т угля при следующих исходных данных:

- Д-565: скорость движения ленты с ковшами $V = 0,75$ м/с; объем ковша $V_{\text{кш}} = 0,015$ м³; шаг расположения ковшей $a = 300$ мм; коэффициент использования объема ковша $k_v = 0,9$; коэффициент использования погрузчика $\eta_n = 0,68$.
- МАЗ-457040: номинальная нагрузка $q_n = 4,5$ т; объем кузова $V_k = 3,8$ м³; протяженность маршрута с грузом $l_{\text{сг}} = 15$ км; техническая скорость $v_T = 30$ км/ч; время разгрузки $t_p = 8$ мин.

Решение

1. Рассчитаем массу одного грузового места:

$$q_i = 0,015 \cdot 0,8 \cdot 0,9 = 0,0108 \text{ т};$$

2. Определим производительность многоковшового погрузчика:

$$W_э = 3600 \cdot 0,0108 \cdot 0,75 \cdot 0,68 / 0,3 = 66,1 \text{ т/ч}.$$

3. Определим, сколько переработает за смену один погрузчик:

$$W_{\text{р,д}} = 66,1 \cdot 7 = 462,7 \text{ т}.$$

4. Необходимое число погрузчиков определяется:

$$A_{\text{пр}} = 900 / 462,7 = 1,94 = 2 \text{ погрузчика}.$$

5. Фактическая грузоподъемность автосамосвала при перевозке угля рассчитывается следующими образом. Сначала определяется плотность навалочных грузов по табл.

13.2.

Максимальный объем угля в кузове самосвала определяется:

$$V = 3,8 + (2,3/2)^3 \text{tg}30^\circ = 3,8 + 0,9 = 4,7 \text{ м}^3.$$

6. Фактическая грузоподъемность автосамосвала при перевозке угля определяется:

$$q_{\text{ф}} = 4,7 \cdot 0,8 = 3,76 \text{ т}.$$

7. Время погрузки экскаватором Д-565 одного автосамосвала определяется:

$$t_{\text{п}} = 3,76 / 70,4 = 0,05 \text{ ч} = 3,2 \text{ мин}.$$

8. Время оборота автосамосвала определяется:

$$t_o = 2 \cdot 15 / 30 + 0,05 + 8 / 60 = 1,18 \text{ ч}.$$

9. Необходимое число АТС для бесперебойной работы погрузчиков определяется:

$$A_э = 70,4 \cdot 2 \cdot 1,18 / 3,76 = 45 \text{ автосамосвалов}.$$

Вывод: для вывоза угля требуется 2 погрузчика и 45 автосамосвалов.

Практическая работа

РАСЧЕТ ОСНОВНЫХ ТЕХНИКО-ЭКСПЛУАТАЦИОННЫХ ПОКАЗАТЕЛЕЙ ИСПОЛЬЗОВАНИЯ ПОДВИЖНОГО СОСТАВА ПРИ РАБОТЕ НА РАЗНЫХ МАРШРУТАХ

Теоретические основы работы

В перевозочном процессе традиционно существует ряд операций в начальном и конечном пунктах, выполнение которых, по действующим правовым положениям, не входит в обязанность основного перевозчика. Их выполняют грузоотправители и грузополучатели или по их поручению транспортно-экспедиционные организации. Такие операции принято называть транспортно-экспедиционными. Они делятся на основные и вспомогательные, различающиеся по характеру, месту и времени выполнения.

Основные транспортно-экспедиционные операции являются элементами общего перевозочного процесса - прием груза на складе отправителя, доставка до станции отправления, погрузка-выгрузка, маркировка, сопровождение, доставка на склад получателя, выдача груза получателю, оформление перевозочных документов, раскредитование, уплата провозных платежей и сборов, информирование клиента о местонахождении и времени прибытия груза на станцию назначения.

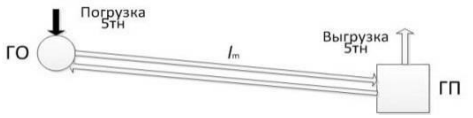

Вспомогательные операции предшествуют или сопутствуют процессу перевозки и включают упаковку грузов, таможенные операции, консультации, длительное хранение, перевалку на другие виды транспорта, составление справок, снятие копий с документов и т.д.

Перевозки могут осуществляться по маятниковым или кольцевым маршрутам. При перевозках по маятниковым маршрутам обратный пробег может быть порожним (холостой пробег), или с неполной загрузкой транспортного средства, или с частью маршрута с грузом, а последующая часть маршрута – холостой пробег.

Перевозка по кольцевому маршруту может включать несколько ездов, когда автомобиль неоднократно загружают и разгружают, либо после загрузки у грузоотправителя осуществляется развоз груза нескольким грузополучателям (развозочный маршрут). Может также осуществляться сбор мелких партий груза от нескольких грузоотправителей одному грузополучателю (сборочный маршрут).

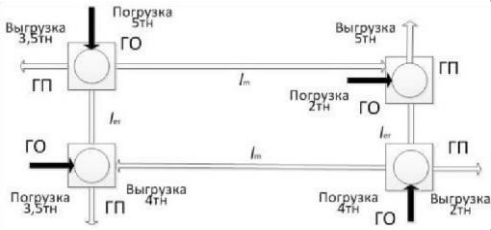
Более эффективно можно использовать подвижной состав, осуществляя одновременно развоз партий груза и сбор груза, тары, то есть по развозочно-сборочным маршрутам.

Таблица 14.1 – Основные ТЭН использования подвижного состава на маршрутах

Вид маршрута	Схема перевозок	Время оборота	Число ездов	Объем перевозок за обо-рот	Коэффициент использования пробега
С обратным по-рожным пробегом		$t_{об} = \frac{2 \cdot l_{er}}{V m} + t_{п.р}$	$n_e = n_o$	$Q = q_n \cdot \gamma$	$\beta = 0,5$
С обратным двухпутным пробегом		$t_{об} = \frac{2 \cdot l_{er}}{V m} + \sum_{t \rightarrow 1}^2 t_{п.р}$	$n_e = 2 \cdot n_o$	$Q = q_n \cdot \sum_{\gamma \rightarrow 1}^2 \gamma$	$\beta = 1,0$

<p>С обратны м ча- стично гружено м</p>		$t_{об} = \frac{\sum_{i=1}^2 l_{er} \cdot l_{er}}{\beta \cdot V \cdot m} + \sum_{t=1}^2 t_{п.р}$	$ne = 2 \cdot no$	$Q = q_H \cdot \sum_{\gamma=1}^2 \gamma$	$\beta = \frac{\sum_{i=1}^2 l_i}{lm}$
<p>пробего м</p>					
<p>Кольцевой</p>		$t_{об} = \frac{lm}{V \cdot m} + \sum_{t=1}^m t_{п.р}$	$ne = m \cdot no$	$Q = q_H \cdot \sum_{\gamma=1}^2 \gamma$	$\beta = \frac{\sum_{i=1}^2 l_i}{lm}$
				$Q = q_H \cdot (\gamma_c + \gamma_c)$	$\gamma_p = \frac{\sum_{i=1}^m \gamma p_i}{n}$

Развозочно-
 сборочный
 (ГО-
 грузоотправи-
 тель, ГП-
 грузополучат-
 ель)



$$t_{об} = \frac{2 \cdot l_{er}}{V m} + t_{п.р} + (m + 1) \cdot t_{д}$$

ne = no

$$\gamma c = \frac{\sum_{i \rightarrow 1}^m \gamma c_i}{m}$$

$$\beta = \frac{\sum_{i \rightarrow 1}^2 l_i}{l_m}$$

Задание:

Выбрать рациональный вариант организации перевозок, если:

- объем заказов на перевозку составляет от грузоотправителя А грузоотправителю

В 800 м^3 , от грузоотправителя С грузополучателю D 1000 м^3 ;

- срок выполнения заказа 1 месяц;
- вид груза, техническая скорость $V_T = 25 \text{ км/час}$ и используемый для перевозок подвижной состав (по вариантам) в таблице 2; - схема транспортных связей на рисунке 14.1; - другие исходные данные в таблице 14.2.

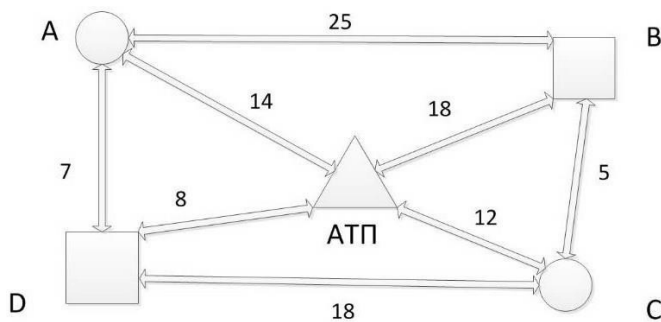


Рисунок 14.1 – Схема транспортных связей Таблица 14.2 – Варианты задания

№ варианта	Марка автомобиля	Грузоподъемность, т	Время в пути, ч	Техническая скорость V_T , км/час	Вид груза	
					А→В	С→D
1	КамАЗ-55111	10	11	25	уголь	щебень
2	Зил-ММЗ-4502	5,8	6	24	торф	гравий
3	МАЗ-5549	8	8	28	песок	щебень
4	КамАЗ-55102	7	7	32	зерно	глина сырая
5	КрАЗ-256 Б1	12	13	30	картофель	песок
6	Зил-ММЗ-4502	5,8	6	33	уголь	щебень
7	МАЗ-5549	8	8	25	торф	гравий
8	КамАЗ-55102	7	7	20	песок	щебень
9	КрАЗ-256 Б1	12	13	28	зерно	глина сырая

10	Зил-ММЗ-4502	5,8	6	32	картофель	песок
11	МАЗ-5549	8	8	30	зерно	глина сырая
12	КамАЗ-55102	7	7	33	картофель	песок
13	КамАЗ-55111	10	11	25	уголь	щебень
14	Зил-ММЗ-4502	5,8	6	25	торф	гравий
15	КрАЗ-256 Б1	12	13	20	зерно	глина сырая
16	КамАЗ-55102	7	8	28	уголь	щебень
17	КрАЗ-256 Б1	12	13	32	торф	гравий
18	Зил-ММЗ-4502	5,8	7	31	песок	щебень
19	КамАЗ-55111	10	12	26	картофель	щебень
20	Зил-ММЗ-4502	5,8	7	25	зерно	гравий
21	МАЗ-5549	8	9	29	картофель	щебень
22	КамАЗ-55102	7	8	33	уголь	глина сырая
23	КрАЗ-256 Б1	12	14	31	торф	песок
24	Зил-ММЗ-4502	5,8	7	34	зерно	щебень
25	МАЗ-5549	8	9	26	уголь	гравий
26	КамАЗ-55102	7	8	21	торф	щебень
27	КрАЗ-256 Б1	12	14	29	песок	глина сырая
28	Зил-ММЗ-4502	5,8	7	33	торф	песок
29	КрАЗ-256 Б1	12	14	21	зерно	глина сырая
30	КамАЗ-55102	7	9	29	уголь	песок

Таблица 14.3 – Варианты задания

№ вариант	Расстояния, км								Объем перевозки, м ³	
	А-В	А-АТП	А-Д	В-С	В-АТП	С-Д	С-АТП	Д-АТП	А → В	С → Д
1	25	14	7	5	18	18	12	8	800	1000
2	7	4	3	2	6	12	9	7	1000	2000
3	9	5	4	3	6	8	7	6	1200	2500
4	12	7	3	3	7	8	4	4	1150	2200

5	5	3	3	2	7	17	10	9	1300	2200
6	6	3	3	2	7	9	7	6	900	1800
7	20	12	5	4	15	15	10	7	800	700
8	25	14	7	5	18	18	12	8	1150	1800
9	7	4	3	2	6	12	9	7	1300	2200
10	9	5	4	3	6	8	7	6	800	1000
11	12	7	3	3	7	8	4	4	1000	2000
12	25	14	7	5	18	18	12	8	1300	2100
1 3	20	12	5	4	15	15	10	7	1000	900
1 4	7	4	3	2	6	12	9	7	800	1000
1 5	9	5	4	3	6	8	7	6	1000	2000
1 6	12	7	3	3	7	8	4	4	1200	1500
1 7	5	3	3	2	7	17	10	9	1150	1600
1 8	6	3	3	2	7	9	7	6	1350	2250
1 9	26	15	8	6	18	18	14	8	800	900
2 0	8	5	5	3	5	11	10	8	1050	2050
2 1	10	6	4	4	7	7	8	7	1250	2550
2 2	13	6	4	3	8	9	5	5	1100	2250
2 3	6	4	3	3	8	18	11	10	1350	2250
2 4	7	4	4	3	8	10	8	7	950	1850
2 5	21	13	6	3	16	16	11	8	850	750
2 6	26	15	6	6	17	18	13	9	1100	18500
2 7	8	5	4	3	7	13	10	8	1350	2250

2 8	10	6	5	4	7	9	8	7	850	1050
2 9	13	6	4	4	8	9	5	5	1050	2050
3 0	26	15	6	7	19	19	13	9	1150	1850

Решение

Перевозка может осуществляться по маятниковым маршрутам, (ее проще организовать, выделив на каждый маршрут необходимое количество подвижного состава) или по кольцевому. При этом потребуются согласовать работу подвижного состава и четырех погрузочно –разгрузочных пунктов, что, естественно, сложнее в организационном плане.

Работа подвижного состава по маятниковым маршрутам может быть выполнена по схемам:

Участок А –В, АТП→(А→В) · ne→АТП; (1)

Участок С –D, АТП→(С→D) · ne→АТП. (2) На кольцевом маршруте перевозку целесообразно организовывать по схеме:

АТП→(А→В→С→D) · ne→АТП. (3) Очевидно, более рациональным будет такой вариант, при котором перевозка может быть выполнена меньшим количеством

подвижного состава. Потребность в выделении подвижного состава для выполнения перевозок может быть определена по формуле: $A_{Дэ} = Q/U_{см}$, В качестве примера рассматриваем вариант перевозки угля на участке АВ и щебня на участке CD автомобилем КамАЗ-55111.

Грузовместимость автомобиля составляет: по углю $7,5 \text{ м}^3$, по щебню $6,84 \text{ м}^3$. Производительность автомобиля за смену составит, м^3 : $U_{см} = GB \cdot ne$; $ne = (T_n - t_n)/t_e$;

Рабочее время водителя составляет 8 часов 00 минут, в том числе водителям устанавливается подготовительно- заключительное время 18 минут в смену и до 5 минут в смену на проведение предрейсового медицинского осмотра, следовательно:

$$T_{\text{н}} = 8 \text{ ч } 00 \text{ мин} - 23 \text{ мин} = 7 \text{ ч } 37 \text{ мин} = 7,62 \text{ ч}$$

Время отработанное водителем более 7,62ч считается сверх – нормативной переработкой и допускается не более 120 часов за год.

Время одной ездки, ч:

$$t_{\text{е}} = t_{\text{л}} + t_{\text{пр}}$$

$$t_{\text{е}} = 7,62$$

Время на загрузку автомобиля КамАЗ355111 составляет 11 минут (см.табл.)

При выполнении перевозок угля на участке АВ:

$$t_{\text{е}} = 25 / (0,5 \cdot 25) + 2 \cdot (11/60) \cdot 1,1 = 2,4 \text{ ч}, n_{\text{е}} = (7,62 - (14+18) / 25) / 2,4 = 2,64, U_{\text{см}} =$$

$$2,64 \cdot 7,5 = 19,8 \text{ м}^3,$$

$$A_{\text{Дэ}} = 800 / 19,8 = 40 \text{ ед.авто.}$$

Пробег общий

$$L = (14+18+25 \cdot 2 \cdot 2,64) \cdot 40 = 6560 \text{ км};$$

Пробег с грузом

$$L_{\Gamma} = 25 \cdot 2,64 \cdot 40 = 2640 \text{ км};$$

Коэффициент использования пробега

$$\beta = L / L_{\Gamma} = 2640 / 6560 = 0,41.$$

При выполнении перевозок щебня на участке CD:

$$t_{\text{е}} = 18 / (0,5 \cdot 25) + 2 \cdot (11/60) \cdot 1,1 = 1,84 \text{ ч}, n_{\text{е}} = (7,62 - (8+12) / 25) / 1,84 = 3,7, U_{\text{см}} =$$

$$3,7 \cdot 6,84 = 25,3 \text{ м}^3,$$

$$АДэ = 1000/25,3 = 40 \text{ ед.авто.}$$

Пробег общий

$$L = (8+12+18 \cdot 2 \cdot 3,7) \cdot 40 = 6120 \text{ км ;}$$

Пробег с грузом

$$L_{Г} = 8 \cdot 3,7 \cdot 40 = 2664 \text{ км ;}$$

Коэффициент использования пробега

$$\beta = L / L_{Г} = 2664 / 6120 = 0,43.$$

При выполнении перевозок по кольцевому маршруту: $t_0 = l_m / V_T + t_{п_p} = 55/25 + 4 \cdot 0,4 = 3,8 \text{ ч; } n_e = (7,62 - (14+8) / 25) = 1,8,$

$$U_{об} = G^{AB}_{ВМ} + G^{CD}_{ВМ} = 7,5 + 6,84 = 14,34 \text{ м}^3, U_{см} = 14,34 \cdot 1,8 = 25,8 \text{ м}^3,$$

$$АДэ = 1800/25,8 = 69 \text{ ед.авто.}$$

$$L = (14+8+55 \cdot 1,8) \cdot 69 = 8349 \text{ км ; } L_{Г} = 43 \cdot 1,8 \cdot 69 = 5341 \text{ км ;}$$

$$\beta = L / L_{Г} = 5341 / 8349 = 0,64.$$

Для анализа технико- эксплуатационные показатели использования подвижного состава сведены в таблице 14.4.

Таблица 14.4 – Техничко- эксплуатационные показатели

Маршрут	АДэ	U _{см} , м ³	L, км	L _Г , км	β
A→B	40	19,8	6560	2640	0,41
C→D	40	25,3	6120	2664	0,43
A→B+C→D	80	22,55	12680	5304	0,42
A→B→C→D	69	25,8	8349	5341	0,64
±Δ, %	-14%	+14%	-34%	-	+50%

Вывод: при объединении двух маятниковых маршрутов в один кольцевой потребность в подвижном составе уменьшилась на 11 автомобилей (14%), производительность подвижного состава возросла на 14%, пробег общий уменьшился на 34%, коэффициент использования пробега увеличился на 50%.

Практическая работа

АВС-МЕТОД И УПРАВЛЕНИЕ ЗАПАСАМИ

Теоретические основы работы

Управление в логистике характеризуется большой номенклатурой управляемых объектов: широкий ассортимент товаров, большое число покупателей или поставщиков, разнообразные грузы и т.д. С точки зрения вклада в общий результат управляемые объекты не равноценны.

В логистике АВС-анализ применяется с целью сокращения величины запасов, сокращения количества перемещений на складе, общего увеличения прибыли предприятия. Идея метода АВС состоит в том, чтобы из всего множества однотипных объектов выделить наиболее значимые с точки зрения обозначенной цели.

Метод АВС предлагает разделение управляемых объектов на три части. При этом предварительно все управляемые объекты оцениваются по степени вклада в общий результат деятельности.

Метод АВС – способ нормирования и контроля за состоянием запасов, заключающийся в разбиении номенклатуры N , реализуемых товарно-материальных ценностей на три неравных подмножества А, В и С на основании некоторого формального алгоритма.

Товары класса (группы А) – это немногочисленные, но важнейшие товары, на которые приходится большая часть денежных средств, вложенных в запас. Размеры запасов по позициям группы А постоянно контролируют, точно определяют издержки, связанные с закупкой, доставкой и хранением, а также размер и момент заказа.

Товары класса (группы В) занимают срединное положение в формировании запасов предприятия и по сравнению с группой А требуют к себе меньшего внимания. Товары класса (группы С), составляющие большую часть ассортимента,

относят к второстепенным. На долю этих товаров приходится наименьшая часть всех финансовых средств, вложенных в запасы. Точные оптимизационные расчеты размера и периода заказа с товарами данной группы не выполняются. Пополнение заказов регистрируется, но текущий учет уровня запасов не ведется. Проверка наличных запасов проводится лишь периодически, например, один раз в шесть месяцев.

Вероятность возникновения спроса на товары подчинена различным законам распределения. Установлено, что примерно 75 % стоимости запасов охватывает около 10 % ассортимента позиций (подмножество А), 20 % стоимости - соответственно 25 % позиций ассортимента (подмножество В) и 5 % стоимости – 65 % ассортимента (группа С).

В качестве одного из возможных алгоритмов разделения всего ассортимента товаров на группы А, В, С может быть предложен следующий. Подсчитывается общее количество заявок, поступивших за определенный период, и делится на общее количество позиций ассортимента N , в результате чего определяется показатель среднего количества заявок P на одну позицию ассортимента N . Все товары, количество заявок на которые в 6 и более раз превышает P , включаются в подмножество А. В подмножество С включаются товары, количество заявок на которые в 2 и более раза меньше P . Все остальные товары включаются в подмножество В.

Задание 1.

В табл. 14.1 приведены 10 наименований деталей, вклад каждого наименования в общую выручку предприятия и доля вклада в общий результат.

Разделить указанные наименования на группы по методу АВС. Результаты расчета занести в табл. 14.2.

Таблица 14.1

Наименование товара	Вклад объекта, руб.	Доля вклада объекта, %
Моторные масла	300*N	3,00
Автомобильная литература	45*N	0,45
Запасные части	7200*N	72,00
Автомобильная химия	50*N	0,50
Трансмиссионные масла	145*N	1,45
Консистентные смазки	15*N	0,15
Автомобильные шины	1580*N	15,8
Инструмент и принадлежности	420*N	4,2
Оборудование и приспособле- ния	90*N	0,9
Прочие	155*N	1,55
Итого	X	100
N – последние две цифры номера зачетной книжки		

Таблица 14.2

Наименование объекта	Вклад объекта, руб.	Доля вклада объекта, %	Вклад нарастающим итогом, %	Группа и ее вклад в результат
				группа А (75 %)
				группа В (20 %)
				группа С (5 %)
Итого				

Практическая работа

ВЛИЯНИЕ ВЕРОЯТНОСТНОГО ХАРАКТЕРА СПРОСА НА РЕШЕНИЕ ПО УПРАВЛЕНИЮ ЗАПАСАМИ (АНАЛИЗ XYZ)

Теоретические основы работы

Анализ ABC позволяет дифференцировать ассортимент по степени вклада в намеченный результат. Принцип дифференциации ассортимента в процессе анализа XYZ иной – здесь весь ассортимент товаров делят на три группы в зависимости от степени равномерности спроса и точности прогнозирования.

Группу X включают товары, спрос на которые равномерен, либо подвержен незначительным колебаниям. Объем реализации по товарам, включенным в данную группу хорошо предсказуем.

В группу Y включают товары, которые потребляются в колеблющихся объемах. В частности, в эту группу могут быть включены товары с сезонным характером спроса.

Возможности прогнозирования спроса – средние.

В группу Z включают товары, спрос на которые возникает лишь эпизодически. Прогнозировать объемы реализации товаров сложно.

Признаком, на основе которого конкретную позицию ассортимента относят к группе X, Y, Z является коэффициент вариации спроса (v) по этой позиции, который определяется по формуле:

$$v = \frac{\sqrt{\frac{\sum (x_i - \bar{x})^2}{n}}}{\bar{x}},$$

где x_i – объем продаж в период в i -й период (значение спроса по оцениваемой позиции); n – количество рассматриваемых периодов продаж товаров (величина периода, за который произведена оценка);

– \bar{x} – среднеарифметическое значение продаж товаров (среднее значение спроса по оцениваемой позиции за период n).

Разделение на группы может осуществляться на основе алгоритма:

- Определение коэффициентов вариации по отдельным позициям ассортимента.
 - Группировка объектов управления в порядке возрастания коэффициентов вариации.
- Построение кривой XYZ.
- Разделение совокупности объектов управления на три группы: группа X, группа Y, группа Z.

Возможный алгоритм дифференциации ассортимента на группы X, Y, Z

Группа	Интервал
X	$0 \leq v < 10 \%$
Y	$10 \% \leq v < 25 \%$
Z	$25 \% \leq v < \infty$

Задание 1.

В течение года автомагазином «Жигули» были реализованы запасные части (см. табл. 15.1) для автомобилей семейства ВАЗ. Определить к какой группе (XYZ) относятся указанные в табл. 15.1 детали.

Таблица 15.1

Период	Количество проданных деталей, шт		
	фильтр масляный	колодки тормозные	ремень ГРМ
Январь	100*N	10*N	10*N
Февраль	100*N	10*N	10*N
Март	62*N	7*N	11*N
Апрель	83*N	8*N	9*N
Май	138*N	11*N	11*N
Июнь	91*N	9*N	9*N
Июль	71*N	10*N	10*N
Август	82*N	9*N	9*N
Сентябрь	97*N	12*N	12*N
Октябрь	196*N	14*N	11*N
Ноябрь	140*N	16*N	12*N

Декабрь	109*N	10*N	10*N
Итого			
N – последние две цифры номера зачетной книжки			

Задание 2.

В автосалонах «Автомир» за 2021–2022 всего было реализовано А (необходимо подсчитать) автомобилей семейства ВАЗ и другие (см. табл. 15.2).

Определить коэффициент вариации спроса на автомобили (к какой группе XYZ) по каждому году и за весь период.

Таблица 15.2

Месяц	Количество проданных автомобилей за период, шт.			
	2021 год	2022 год	2023 год	всего
Январь	6*N	4*N	8*N	
Февраль	5*N	5*N	7*N	
Март	5*N	7*N	9*N	
Апрель	8*N	6*N	8*N	
Май	9*N	5*N	7*N	
Июнь	11*N	7*N	12*N	
Июль	12*N	10*N	12*N	
Август	9*N	9*N	9*N	
Сентябрь	7*N	10*N	14*N	
Октябрь	8*N	13*N	12*N	
Ноябрь	5*N	12*N	9*N	
Декабрь	11*N	11*N	16*N	
Итого				
N – последние две цифры номера зачетной книжки				

ТЕМЫ РЕФЕРАТОВ

ПО ДИСЦИПЛИНЕ: ЛОГИСТИКА НА ТРАНСПОРТЕ

Базовый уровень

1. Логистика как способ получения конкурентных преимуществ
2. Эволюция концептуальных подходов к логистике
3. Поток и запас как главные категории логистики
4. Материальные потоки. Классификация и параметры
5. Финансовые потоки. Схемы финансовых потоков
6. Информационные потоки. Классификация
7. Бюджетирование в логистике
8. Информационные технологии в логистике
9. Понятия "запас" и "заказ" в логистике
10. Терминалы в логистической цепи
11. Концепция общих затрат
12. Надежность в логистических системах. Страхование рисков
13. Логистическая система «точно в срок»
14. Микрологистическая система KANBAN
15. Система «планирование потребностей/ресурсов»
16. Концепция «тощего производства»
17. Системы «быстрого реагирования и «непрерывного пополнения запасов»
18. Организация материальных потоков на производстве
19. Логистика и маркетинг
20. Системы управления запасами
21. Требования к работе транспорта в логистических системах

22. Функции и задачи складов в логистической системе
23. Логистический процесс на складе
24. Аутсорсинг в логистике
25. Кросс-докинг в логистике

Повышенный уровень

1. Системы управления качеством обслуживания потребителей в логистике
2. Организация экспедирования грузов
3. Упаковка и маркировка продукции
4. Организация распределения продукции
5. Логистическая система городского пассажирского транспорта
6. Управление стоимостью в цепочке поставок
7. Структура общих затрат на логистические операции
8. Анализ и оптимизация логистических затрат
9. Страхование логистических рисков
10. Организация таможенного оформления товаров
11. Организация сбыта продукции
12. Конкурентная среда на российском рынке транспортно- логистических услуг
13. Маркетинг и рынок транспортных услуг
14. Логистика в глобальной экономике
15. Управление цепями поставок и распределения
16. Экономическая оценка логистических решений
17. Логистика внешнеэкономической деятельности

18. Обеспечение сохранности товара в цепи поставок
19. Логистика и управление цепями поставок в (по отраслям экономики: в торговле,
20. промышленности, строительстве, с/хозяйстве, лесопереработке, нефтегазовом комплексе...)
21. Контроль движения товара в цепи поставок
22. Системы навигации транспортных средств в цепях поставок
23. Системы мониторинга в цепях поставок товаров
24. Автоматизированные системы управления логистическими операциями (например: закупки, тендеры, управление складом, маршрутизация перевозок...)
25. Взаимодействие звеньев цепи поставок
26. Правовое обеспечение функционирования цепей поставок
27. Качество функционирования цепей поставок
28. Межнациональные и межрегиональные цепи поставок
29. Корпоративные цепи поставок
30. Классификация логистических провайдеров (2 PL, 3 PL, 4PL провайдеры)
31. Тарифообразование на логистические услуги
32. Мотивация логистического персонала
33. Технологическое обеспечение логистических цепей
34. Информационные технологии в логистических цепях

2.2. Типовые задания для оценки освоения МДК 03. Логистика сервисного обслуживания

Тестовые задания

- 1) Что является объектом логистического сервиса?
 - А. конкретные потребители материальных потоков
 - Б. быстрая доставка товара или услуги до клиента

- 2) Кем может осуществляться логистическое сервисное обслуживание?
 - А. только производителем
 - Б. производителем, а так же торгово-посреднической структурой и специализированными транспортно-экспедиторскими фирмами.

- 3) Какая характеристика подходит логистическому сервису?
 - А. невозможность почувствовать услугу на «ощупь»
 - Б. Изменчивость качества
 - В. Невозможность накопления услуг
 - Г. Все варианты верны

- 4) Что является прерогативой логистики в последние годы вместе с управлением материальными потоками?
 - А. управление сервисными потоками
 - Б. управление производственными потоками

- 5) Что является предметом логистического сервиса?
 - А. комплекс соответствующих услуг
 - Б. перевозка груза от производителя к потребителю

6) Услуга в общем понимании это..

А. доставка товара в нужное время и в полной сохранности.

Б. некоторое действие, которое приносит пользу.

7) Работа по предоставлению услуг называется..

А. клининг

Б. сервис

8) Под сервисом понимают-

А. система обслуживания, позволяющая покупателю, выбрать для себя оптимальный вариант приобретения или потребления изделия.

Б. система обслуживания ,позволяющая покупателю, выбрать товар или услугу по телефону.

9) Являются ли подготовка покупателя к безопасной эксплуатации приобретаемой техники и оперативная поставка запасных частей одними из основных задач логистического сервиса?

А. только безопасная эксплуатация приобретаемой техники

Б. только оперативная поставка запасных частей

В. Оба варианта верны

10) Что является главным фактором ,определяющим успех предприятия в «сервисной» экономике?

А. способность понять системы предпочтений клиента

Б.как можно лучше удовлетворять предпочтения клиента

В. Оба варианта верны

Г. Оба варианта неверны

11) Можно ли разделить работы в области логистического обслуживания на группы?

А.нет, они все взаимосвязаны в одной группе

Б. да, можно разделить на группы

12) Являются ли исполнение заказа и наличие товарных запасов на складе логистическими услугами?

А.оба варианта не верны

Б.оба варианта верны

В. Только исполнение заказа

Г. Только наличие товарных запасов на складе

13) Послепродажные услуги это..

А.гарантийное обслуживание, обязательства по рассмотрению претензий покупателей, обмен.

Б. обмен товара на новый если он оказался бракованным.

14) Что включает в себя сервис удовлетворения потребительского спроса? А. время, частоту, готовность, безотказность, ,качество поставок, метод заказа.

Б. время, частоту, готовность, безотказность, ,качество поставок

В. готовность, безотказность, ,качество поставок, метод заказа.

15) Какие бывают критерии характеризующие вид сервисного обслуживания?

А. номенклатура и качество, качество, время, цена, надежность предоставления сервиса.

Б. номенклатура и качество, качество, , надежность предоставления сервиса.

В. номенклатура и качество, качество, время, цена.

16) Сервис информационного обслуживания характеризуется ...

А. совокупностью информации, предоставляемой потребителю о продукции и ее обслуживании, методов и принципов.

Б. совокупностью информации, предоставляемой потребителю о продукции и ее обслуживании, методов и принципов, а так же технических средств, используемых для передачи информации.

В. совокупностью информации, предоставляемой потребителю о продукции и ее обслуживании, методов и принципов, а так же технических средств, используемых для обработки и передачи информации.

17) Бывают ли в логистическом сервисе прямой и косвенный сервис?

А. да, бывают

Б. нет, таких видов не бывает.

В. Только косвенный сервис

Г. Только прямой сервис

18) Где широко используется понятие «логистика сервисного отзыва»?

А. на западе

Б. в европе

В. на востоке

19) Логистика сервисного отзыва это..

А. процесс координации логистических операций, необходимых для предоставления услуг наиболее эффективным по отношению к затратам и удовлетворению запросов потребителей способом.

Б. процесс координации логистических операций, необходимых для предоставления услуг наиболее эффективным по отношению к затратам способом.

В. процесс координации логистических операций, необходимых для предоставления услуг наиболее эффективным по отношению к удовлетворению запросов потребителей способом.

20) В каких сферах может быть реализован логистический сервис? А. в сферах распределения.

Б. в сферах обращения.

В. в сферах распределения и обращения.

Тема: **Сервис в логистике**

Цель: изучить виды сервисного обслуживания, критерии сервиса и критерии качества логистического сервиса.

Вопросы для обсуждения:

1. Классификация видов сервисного обслуживания продукции.
2. Критерии сервиса удовлетворения потребительского спроса.
3. Критерии сервиса оказания услуг производственного назначения.
4. Критерии сервиса послепродажного обслуживания.
5. Критерии сервиса информационного обслуживания.
6. Критерии сервиса финансово-кредитного обслуживания.
7. Зависимость затрат на сервис от уровня сервиса.
8. Зависимость объема продаж от уровня сервиса.
9. Критерии качества логистического сервиса.

Задание

Оптовое предприятие «Альянс», торгует запасными частями к автомобилям, список (номенклатура) запасных частей содержит 2000 видов, из которых на предприятии имеется постоянно 500 видов. Необходимо определить уровень логистического сервиса, используя формулу 1. $\eta = m/M \times 100\%$ (1)

η – уровень логистического сервиса;

m – количественная оценка фактически оказываемого объема логистического сервиса;

M – количественная оценка теоретически возможного объема логистического сервиса

% – фактически оказываемый объем логистического сервиса от теоретического.

Задание

Выберите предприятие по предложенным вариантам:

В - I	В - II	В - III	В - IV
металлургическая	машиностроительная	пищевая	сфера услуг

Согласно специализации этого предприятия и специфики предлагаемого на рынок продукта, разработайте:

- программу логистического сервиса;
- определите организационную и функциональную структуру данной службы;
- по каким критериям будет определяться эффективность функционирования службы логистического сервиса, выбранного предприятия. Тест для проверки знаний 1. К какому процессу относятся сервисные операции?
 - а) вспомогательному;
 - б) основному;
 - в) главному;

- г) обслуживающему;
- д) заключительному.

2. Сервисное обслуживание подразделяется на виды:

- а) производственный, послепродажный, информационный;
- б) долгосрочный, краткосрочный;
- в) закуп, переработка материального ресурса, сбыт;
- г) по покупательской способности;
- д) макро- и микроуровня.

3. Что является основой при развитии логистического сервиса?

- а) используемая на предприятии логистическая система;
- б) стратегическое планирование логистической системы;
- в) специализация предприятия;
- г) срок деятельности на рынке;
- д) доля рынка.

4. Эффективность функционирования логистического сервиса определяет: а) потребитель;

- б) управляющий менеджер данного подразделения;
- в) финансовая служба;
- г) директор предприятия;
- д) налоговая инспекция.

5. Существует зависимость объема продаж от уровня сервиса? а) нет;

- б) существует только на предприятиях функционирующих в металлургической отрасли;
- в) да;

- г) существует, если доля рынка больше 50%;
- д) существует, если предприятие функционирует на международном рынке.

6. Как определяются затраты на логистический сервис?

- а) это процент от валовой прибыли;
- б) это зависит от специфики продукта;
- в) приблизительно 2-3 % в себестоимости продукции;
- г) общие затраты на содержание службы логистического сервиса;
- д) нет правильных ответов.

7. Основная цель создания логистического сервиса на предприятии?

- а) получение максимальной прибыли;
- б) удовлетворение потребителя;
- в) снижение складских затрат;
- г) организация новых рабочих мест;
- д) снижение затрат от брака.

8. Что относится к логистическим затратам на сервис?

- а) издержки на транспортировку;
- б) издержки на хранение;
- в) издержки на дистрибьюцию;
- г) издержки на экспедиционное обслуживание;
- д) нет правильного ответа.

9. Какая из перечисленных особенностей характерна для логистического управления сервисом?

- а) дискретное управление материальным потоком;
- б) ситуационное управление материальным потоком;

- в) сквозное управление материальным потоком;
- г) матричное управление материальным потоком;
- д) нет правильного ответа.

10. Какие функции включает логистический сервис?

- а) транспортировка;
- б) грузопереработка;
- в) кредитование;
- г) нет правильного ответа;
- д) ответы а-в.

11. Срок продолжительности логистического сервиса:

- а) не зависит не от чего;
- б) зависит от гарантийного обслуживания;
- в) зависит от специфики продукта;
- г) зависит от специализации предприятия;
- д) от этапа жизненного цикла предприятия.

3. ОЦЕНКА ПО УЧЕБНОЙ И (ИЛИ) ПРОИЗВОДСТВЕННОЙ ПРАКТИКЕ

3.1 Формы и методы оценивания

Предметом оценки по учебной и (или) производственной практике обязательно являются дидактические единицы «иметь практический опыт» и «уметь». Контроль и оценка этих дидактических единиц осуществляются с использованием следующих форм и методов: Наблюдение и оценка на практических занятиях, в процессе практики. Разрешение смоделированных педагогических ситуаций. Экспертная оценка деятельности студента на практике.

3.2 Перечень видов работ для проверки результатов освоения программы профессионального модуля на практике

3.2.1 Учебная практика (при наличии)

Виды работ	Коды проверяемых результатов		
	ПК	ОК	ПО, У, З
<p>– Изучить работу сервисов предприятия – Ознакомиться с исторической справкой об организации, ее организационноправовой собственности и специализацией деятельности</p> <p>– Ознакомиться со структурой аппарата управления и логистических отделов, с должностными инструкциями специалистов по логистике</p> <p>– Определение приоритетных услуг в комплексе логистического сервиса.</p> <p>– Определение различных уровней сервиса в зависимости от</p>	<p>ПК 3.1 Планировать, готовить и осуществлять процесс перевозки грузов</p> <p>ПК.3.2 Определять параметры логистического сервиса</p> <p>ПК.3.3 Оценивать качество логистического сервиса</p>	<p>ОК 01 Выбирать способы решения задач профессиональной деятельности применительно к различным контекстам</p> <p>ОК 02 Использовать современные средства поиска, анализа и интерпретации информации и информационные технологии для выполнения профессиональной деятельности</p> <p>ОК 03 Планировать и реализовывать собственное профессиональное и личностное развитие, предпринимательскую</p>	<p>иметь</p> <p>практический опыт:</p> <p>– участия в организации процесса перевозки грузов; оптимизации транспортных расходов;</p> <p>– участия в разработке и анализе элементов логистического сервиса;</p> <p>– участия в оценке качества элементов логистического сервиса</p> <p>уметь:</p> <p>– рассчитывать стоимость грузоперевозок различными видами транспорта, в т.ч.</p>

требований заказчиков – Определение структуры	концепции и принципы	деятельность в профессиональной сфере, использовать знания по	смешанной перевозки; – определять оптимальный маршрут перевозки; – осуществлять выбор транспортного средства;
---	----------------------------	---	---

<p>необходимых ресурсов в области сервиса</p> <ul style="list-style-type: none"> — Определение уровня и структуры базового комплекса логистического сервиса, а также объема дополнительных услуг, предлагаемых клиентам. — Организация обратной связи с потребителями с целью адаптации реализуемых логистических услуг желаниям потребителей. — Оценка качества логистического сервиса — Планирование, подготовка и осуществление процесса перевозки грузов — Провести анализ системы сервисного обслуживания – — Развитие и контроль связей системы сервиса с другими элементами логистической системы. — Разработка проектов деятельности по логистическому обслуживанию в стандартных, нестандартных и чрезвычайных условиях — Рассчитать затраты на сервисное обслуживание — Сегментирование рынка логистических услуг с детализацией требований по объемам, ассортименту, 	<p>сокращения логистических расходов.</p>	<p>финансовой грамотности в различных жизненных ситуациях</p> <p>ОК 04 Эффективно взаимодействовать и работать в коллективе и команде</p> <p>ОК 05 Осуществлять устную и письменную коммуникацию на государственном языке Российской Федерации с учетом особенностей социального и культурного контекста</p> <p>ОК 06 Проявлять гражданско-патриотическую позицию, демонстрировать осознанное поведение на основе традиционных общечеловеческих ценностей, в том числе с учетом гармонизации межнациональных и межрелигиозных отношений, применять стандарты антикоррупционного поведения</p> <p>ОК 07 Содействовать сохранению окружающей среды, ресурсосбережению, применять знания об изменении климата, принципы бережливого производства, эффективно действовать в</p>	<ul style="list-style-type: none"> — заполнять транспортные документы, в т.ч. на английском языке; — проводить оптимизацию транспортных расходов; — применять методы маркетинговых исследований; — определять экономические параметры логистического сервиса; — применять методы оценки качества логистического сервиса; — определять параметры качества логистического сервиса <p>знать:</p> <ul style="list-style-type: none"> — основы нормативно-правового регулирования перевозки грузов; — порядок организации перевозки грузов различными видами транспорта, в т.ч. смешанных перевозок; — способы расчета стоимости перевозки; — виды, типы и параметры транспортных средств; — порядок разработки маршрутов движения транспортных средств при внутренних и международных перевозках грузов;
--	---	---	--

		чрезвычайных ОК 09 Пользоваться профессиональной	— порядок и требования к заполнению транспортных документов;
качеству, особенностей потребления. – Составить схему сервисного обслуживания на предприятии – Стандартизация сервиса и выработка унифицированных процедур оказания услуги для отдельных сегментов рынка. – Установление зависимости между уровнем сервиса и затратами на логистические услуги.		документацией на государственном и иностранном языках	— структуру затрат на транспортировку, направления оптимизации транспортных расходов; — содержание, задачи и принципы логистического сервиса; — классификацию логистического сервиса; — роль маркетинга в логистическом сервисе; — экономические параметры организации логистического сервиса; — показатели, оценивающие качество логистического сервиса; — уровни качества логистического сервиса

3.2.2 Производственная практика(при наличии)

Виды работ	Коды проверяемых результатов		
	ПК	ОК	ПО, У, З
– Планирование, подготовка и осуществление процесса перевозки грузов – Сегментирование рынка логистических услуг с детализацией требований по объемам, ассортименту, качеству,	ПК 3.1 Планировать, подготавливать и осуществлять процесс перевозки грузов ПК.3.2 Определять параметры логистического сервиса	ОК 01 Выбирать способы решения задач профессиональной деятельности применительно к различным контекстам ОК 02 Использовать современные средства поиска, анализа и интерпретации информации информационные	иметь практический опыт: – участия в организации процесса перевозки грузов; оптимизации транспортных расходов; – участия в разработке и анализе элементов логистического сервиса;

<p>особенностей потребления.</p> <p>– Определение уровня и структуры базового комплекса логистического</p>	<p>ПК.3.3</p> <p>Оценивать качество логистического сервиса</p>	<p>технологии для выполнения задач профессиональной деятельности</p> <p>ОК 03 Планировать и реализовывать</p>	<p>– участия в оценке качества элементов логистического сервиса</p> <p>уметь:</p> <p>– рассчитывать стоимость грузоперевозок различными видами транспорта, в т.ч. смешанной перевозки;</p> <p>– определять</p>
--	--	---	---

<p>сервиса, а также объема дополнительных услуг, предлагаемых клиентам.</p> <p>– Определение приоритетных услуг в комплексе логистического сервиса.</p> <p>– Разработка проектов деятельности по логистическому обслуживанию в стандартных, нестандартных и чрезвычайных условиях</p> <p>– Оценка качества логистического сервиса</p> <p>– Установление зависимости между уровнем сервиса и затратами на логистические услуги.</p> <p>– Стандартизация сервиса и выработка унифицированных</p>	<p>концепции и принципы сокращения логистических расходов.</p>	<p>собственное профессиональное и личностное развитие, предпринимательскую деятельность в профессиональной сфере, использовать знания по финансовой грамотности в различных жизненных ситуациях</p> <p>ОК 04 Эффективно взаимодействовать и работать в коллективе и команде</p> <p>ОК 05 Осуществлять устную и письменную коммуникацию на государственном языке Российской Федерации с учетом особенностей социального и культурного контекста</p> <p>ОК 06 Проявлять гражданскопатриотическую позицию, демонстрировать осознанное поведение на основе традиционных общечеловеческих ценностей, в том числе с</p>	<p>оптимальный маршрут перевозки;</p> <p>– осуществлять выбор транспортного средства;</p> <p>– заполнять транспортные документы, в т.ч. на английском языке;</p> <p>– проводить оптимизацию транспортных расходов; – применять методы маркетинговых исследований; – определять экономические параметры логистического сервиса;</p> <p>– применять методы оценки качества логистического сервиса; – определять параметры качества логистического сервиса знать:</p> <p>– основы нормативноправового регулирования перевозки грузов;</p> <p>– порядок</p>
--	--	---	--

<p>процедур оказания услуги для отдельных сегментов рынка. –</p> <p>Определение различных уровней сервиса в зависимости от требований заказчиков</p> <p>– Определение структуры необходимых</p>		<p>учетом гармонизации межнациональных и межрелигиозных отношений, применять стандарты антикоррупционного поведения</p> <p>ОК 07 Содействовать сохранению окружающей среды,</p>	<p>организации перевозки грузов различными видами транспорта, в т.ч. смешанных перевозок; –</p> <p>способы расчета стоимости перевозки;</p> <p>– виды, типы и параметры транспортных средств;</p> <p>– порядок разработки маршрутов движения транспортных средств при внутренних и международных перевозках грузов;</p> <p>– порядок и требования к заполнению транспортных документов;</p> <p>– структуру затрат на транспортировку, направления оптимизации транспортных расходов;</p>
<p>ресурсов в области сервиса</p> <p>– Организация обратной связи с потребителями с целью адаптации реализуемых логистических услуг желанием потребителей.</p> <p>– Развитие и контроль связей системы сервиса с другими элементами</p>		<p>ресурсосбережению, применять знания об изменении климата, принципы бережливого производства, эффективно действовать в чрезвычайных</p> <p>ОК 09 Пользоваться профессиональной документацией на государственном и иностранном языках</p>	<p>– содержание, задачи и принципы логистического сервиса;</p> <p>– классификацию логистического сервиса; – роль маркетинга в логистическом сервисе; –</p> <p>экономические параметры организации логистического</p>

логистической системы.			сервиса; — показатели, оценивающие качество логистического сервиса; — уровни качества логистического сервиса —
------------------------	--	--	---

3.3. Форма аттестационного листа по практике (заполняется на каждого обучающегося)

Учебная и (или) производственная практика завершается дифференцированным зачетом при условии положительного аттестационного листа по практике руководителей практики от организации и техникума об уровне освоения профессиональных компетенций; наличия положительной характеристики организации на обучающегося по освоению общих компетенций в период прохождения практики; полноты и своевременности представления дневника практики и отчета о практике в соответствии с заданием на практику. Итоговая отметка за практику складывается из следующих компонентов: уровня освоения профессиональных компетенций; характеристики обучающегося по освоению общих компетенций в период прохождения практики; полноты, своевременности, прилежности, соблюдения сроков представления дневника и отчета по практике.

Автономная некоммерческая профессиональная образовательная
организация

«Кубанский техникум социального развития»

АТТЕСТАЦИОННЫЙ ЛИСТ ПО ПРАКТИКЕ

Ф.И.О. студента(-ки) в именительном падеже

Обучающийся(-аяся) на ____ курсе по специальности среднего профессионального образования _____

Код наименования специальности

Успешно прошел(-ла)/ учебную / производственную (по профилю специальности)/ преддипломную практику по профессиональному (ым) модулю (лям)

(нужное подчеркнуть)

В объеме ___ часов с «___» _____ 202__ г. по «___» _____ 202__ г.

В организации _____
наименование организации

Сведения об уровне освоения обучающимся профессиональных компетенций

Профессиональные компетенции, освоенные студентами в процессе прохождения практики	Виды работ, выполненных обучающимся во время практики	Уровень освоения обучающимся профессиональных компетенций

Характеристика на обучающегося по освоению профессиональных компетенций в период прохождения практики:

Работа выполнена на оценку _____

Руководитель практики от вуза _____

Личная подпись И.О.Ф., должность

Руководитель практики от организации _____

Личная подпись И.О.Ф., должность

**4. КОМПЛЕКТ КОНТРОЛЬНО-ОЦЕНОЧНЫХ СРЕДСТВ ДЛЯ
ПРОВЕДЕНИЯ ЭКЗАМЕНА ПО МОДУЛЮ
4.1. Задания для проведения экзамена по модулю**

Вопросы и задания для экзамена по модулю

1. Характеристика и задачи закупочной, производственной, транспортной, распределительной и информационной логистике.
2. Место логистики запасов в логистической системе.
3. Стратегии управления запасами. Классификация материальных запасов по отношению к логистическим операциям и функциональному назначению.
4. Методы оптимизации запасов. Минимальный и максимальный запас. Причины создания материальных запасов. Основные причины для сокращения и создания запасов.
5. Виды издержек в системе управления запасами.
6. Определение производственной логистики. Типы организации производства. Понятие и классификация производственных процессов в зависимости от назначения и по характеру производства.
7. Роль и сущность системы складирования.
8. Склады, их определение, виды и функции.
9. Система складирования и складские подсистемы. Рациональная система складирования. Задачи разработки системы складирования.
10. Классификация зон склада по основным логистическим принципам. Размещение и хранение товара на складах. Показатели эффективности использования площади склада
11. Функции отдела логистики на промышленном предприятии.
12. Сущность ABC-анализа. Размещение товаров на складе («Правило 20\80»).
13. Показатели интенсивности работы складов
14. Основные критерии оценки рентабельности системы складирования
15. Общее определение технологии товарообработки (ручная, механизированная и автоматизированная технологии).
16. Ценообразование. Цель и методы ценообразования.
17. Генезис и развитие транспортной логистики в России.

18. Понятие, задачи и принципы транспортной логистики.
19. Классификация транспорта. Организация перевозок грузов транспортом.
20. Экономические факторы, определяющие величину транспортных расходов. Транспортные расходы и их виды. Пути снижения расходов по доставке товаров.
21. Логистические концепции.

Контрольные вопросы

1. В чем состоит роль транспортировки в логистике?
2. Какие основные задачи решает транспортная логистика?
3. Какие существуют основные способы транспортировки? Охарактеризуйте каждый из них.
4. В чем состоят достоинства и недостатки различных видов транспорта? 5. Почему в логистике широкое распространение получили интер/мультимодальные перевозки?
6. Какие преимущества обеспечивают интер/мультимодальные перевозки?
7. Что такое терминальные перевозки? Какова их роль в обеспечении грузопотоков?
8. Как следует выбирать перевозчика? экспедитора? других посредников?
9. Каковы оптимизационные задачи транспортной логистики?
10. В чем особенности транспортировки углеводородного сырья?

Контрольные задания

Задание 4.1

Продукция (манометры) транспортируется в стандартных контейнерах в ящиках или на поддонах.

Если используются поддоны, то в контейнер вмещается 300 шт. (25 поддонов в одном контейнере, 12 шт. на одном поддоне). Если штабелируются ящики,

1	20	13	2,88	2,16	1,08	0,81	22,88	22,16	13,58	13,31
2	32	20	2,88	2,16	1,08	0,81	34,88	34,16	21,08	20,81
3	48	30	2,88	2,16	1,08	0,81	50,88	50,16	31,08	30,81
4	80	50	2,88	2,16	1,08	0,81	82,88	82,16	51,08	50,81
5	120	75	2,88	2,16	1,08	0,81	122,88	122,16	76,08	75,81
6	32	20	2,88	2,16	1,08	0,81	36,61	35,46	21,73	21,30
7	54	34	2,88	2,16	1,08	0,81	59,30	58,07	35,84	35,38
8	86	54	2,88	2,16	1,08	0,81	91,58	90,29	55,94	55,46
9	152	95	2,88	2,16	1,08	0,81	157,47	156,10	97,05	96,54
10	132	83	2,88	2,16	1,08	0,81	135,17	134,38	83,69	83,39
11	22	14	2,88	2,16	1,08	0,81	25,40	24,60	15,07	14,77
12	36	22	2,88	2,16	1,08	0,81	39,07	38,26	23,61	23,31
13	54	34	2,88	2,16	1,08	0,81	57,49	56,68	35,12	34,82
14	91	57	2,88	2,16	1,08	0,81	94,48	93,66	58,23	57,92
15	138	86	2,88	2,16	1,08	0,81	141,31	140,48	87,49	87,18

Задание 4.2

Сервисная компания решает вопрос, где закупать комплектующие изделия – в России или в Юго-Восточной Азии? Так, в случае отгрузки из Юго-Восточной Азии необходимо преодолеть большие расстояния, чем при отгрузке из России. Транспортные затраты будут значительно выше, а более длительные сроки перевозки потребуют дополнительных запасов в сети снабжения и дополнительных страховых запасов, гарантирующих бесперебойное производство. Более того, продукция из региона Юго-Восточной Азии подлежит обложению импортными пошлинами. В таблице 4.13 перечислены дополнительные факторы, возникающие при отгрузке из Юго-Восточной Азии.

Таблица 4.13

Характеристика транспортировки

Вариант	Тариф на тран- портировку грузов морем, долл./куб.м	Импортная пошлина за ввоз товаров, %	Процентная ставка на запасы		Продолжительно- сть транспортировк и , дн.	Дополнительные страховые запасы у получателя, дн.
			в пути, %	страховы е, %		
1	150	12	10	10	25	7
2	180	14	12	12	30	8
3	195	16	13	13	33	9
4	210	17	14	14	35	10
5	225	18	15	15	38	11
6	90	7	6	6	15	4
7	105	8	7	7	18	5
8	120	10	8	8	20	6
9	135	11	9	9	23	6
10	165	13	11	11	28	8
11	167	13	11	11	28	8
12	168	13	11	11	28	8
13	170	14	11	11	28	8
14	171	14	11	11	29	8
15	173	14	12	12	29	8

Удельная стоимость товара составляет 4000 долл., 6000 долл., 8000 долл., 10000 долл., 12000 долл. за куб. м. Цена комплектующих изделий в России на 20% выше, чем в регионе Юго-Восточной Азии, а их качество одинаковое.

На основании указанных факторов и удельной стоимости товара определить дополнительные затраты, возникающие при отгрузках из Юго-Восточной Азии. Сравнить с затратами при покупке в России, выбрать вариант доставки.

4.2. Критерии оценки, выполненных заданий

Выполнение задания:

- обращение в ходе задания к информационным источникам;
- рациональное распределение времени на выполнение задания.

«5» (отлично) - за глубокое и полное овладение содержанием учебного материала, в котором студент легко ориентируется; научно-понятийным аппаратом; за умение практически применять теоретические знания, качественно выполнять все виды лабораторных и практических работ, высказывать и обосновывать свои суждения. Отличная отметка предполагает грамотное и логичное изложение ответа (в устной или письменной форме) на практико-ориентированные вопросы, обоснование своего высказывания с точки зрения известных теоретических положений.

«4» (хорошо) - если студент полно освоил учебный материал, владеет научнопонятийным аппаратом, ориентируется в изученном материале, осознанно применяет знания на практике, грамотно излагает ответ (в устной или письменной форме), но содержание и форма ответа имеют отдельные неточности.

«3» (удовлетворительно) - если студент обнаруживает знание и понимание основных положений учебного материала, но излагает его неполно, непоследовательно, допускает неточности в определении понятий, в применении теоретических знаний при ответе на практикоориентированные вопросы; не умеет доказательно обосновать свои суждения.

«2» (неудовлетворительно) - если студент имеет разрозненные, бессистемные знания по дисциплине, допускает ошибки в определении базовых понятий, искажает их смысл; не может практически применять теоретические знания.